

# پی‌اچ‌دی تست: نخستین وب‌سایت تخصصی آزمون دکتری

کد کنترل

264

E



نام:

نام خانوادگی:

محل امضا:

<p>صبح جمعه ۱۳۹۶/۱۲/۴ دفترچه شماره (۱)</p>				<p>«اگر دانشگاه اصلاح شود مملکت اصلاح می‌شود.» امام خمینی (ره)</p>	
		<p>جمهوری اسلامی ایران وزارت علوم، تحقیقات و فناوری سازمان سنجش آموزش کشور</p>			
<p><b>آزمون ورودی دوره دکتری (نیمه‌متمرکز) - سال ۱۳۹۷</b></p>					
<p><b>رشته زیست‌شناسی سلولی و مولکولی (کد ۲۲۲۶)</b></p>					
<p>مدت پاسخگویی: ۱۵۰ دقیقه</p>			<p>تعداد سؤال: ۱۰۰</p>		
<p>عنوان مواد امتحانی، تعداد و شماره سؤالات</p>					
ردیف	مواد امتحانی	تعداد سؤال	از شماره	تا شماره	
۱	مجموعه دروس تخصصی: بیوشیمی - بیوفیزیک - میکروبیولوژی - ژنتیک - زیست‌شناسی سلولی و مولکولی - زیست‌شناسی سلولی پیشرفته - ساختار DNA و همانندسازی - رونویسی و ترجمه - تنظیم بیان ژن	۱۰۰	۱	۱۰۰	
<p>این آزمون نمره منفی دارد.</p>			<p>استفاده از ماشین حساب مجاز نیست.</p>		
<p>حق چاپ و انتشار سؤالات به هر روش (الکترونیکی و...) پس از برگزاری آزمون برای نماندگی اطلاع‌رسانی و حقوقی آنها با مجوز این سازمان مجاز می‌باشد و با متغییرن برابر طرقات رفتار می‌نماید.</p>					

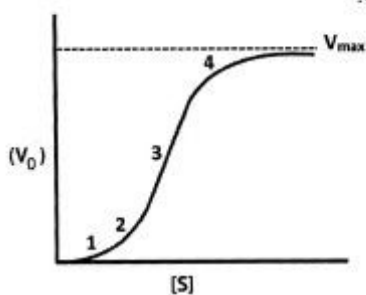
# پی‌اچ‌دی تست: نخستین وب‌سایت تخصصی آزمون دکتری

\* داوطلب گرامی، عدم درج مشخصات و امضا در مندرجات جدول ذیل، به‌منزله عدم حضور شما در جلسه آزمون است.

اینجانب ..... با شماره داوطلبی ..... در جلسه این آزمون شرکت می‌نمایم.

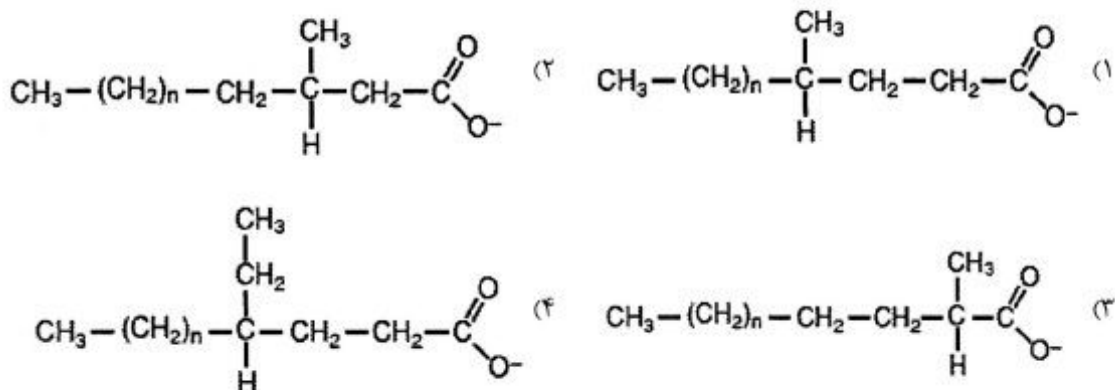
امضا:

۱- نمودار زیر نشان‌دهنده سرعت واکنش آنزیمی بر حسب غلظت سوبسترا برای یک آنزیم آلوستریک است. در کدام بخش از نمودار، عمده جمعیت آنزیم در حالت «Tense» یا حالت «سفت» است؟

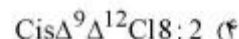
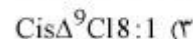
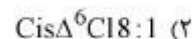
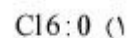


- ۱ (۱)
- ۲ (۲)
- ۳ (۳)
- ۴ (۴)

۲- جهت اکسایش کامل کدام اسیدچرب،  $\alpha$ -اکسایش ( $\alpha$ -oxidation) آن ضروری است؟



۳- از اکسایش کامل کدام اسیدچرب، تعداد ATP بیشتری تولید می‌شود؟



۴- کدام مورد، هم گلیکولیپید و هم اسفنگولیپید محسوب می‌شود؟

(۱) سربروزید

(۲) سرآمید

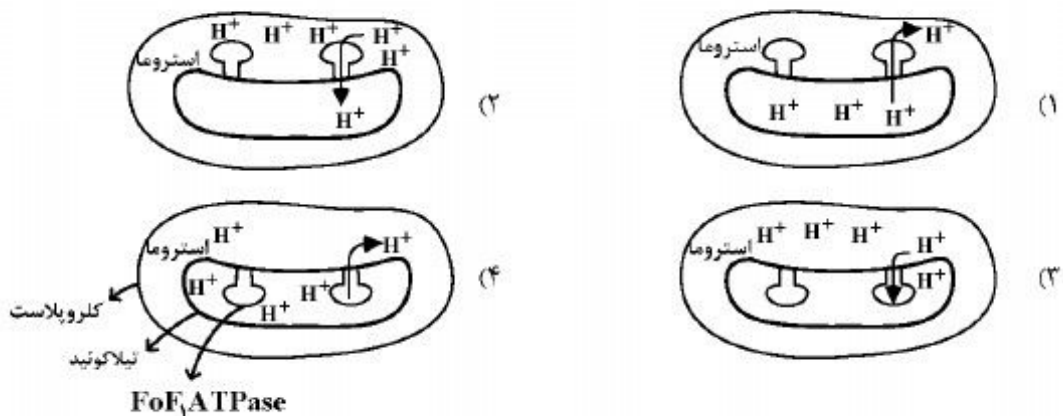
(۳) اسفنگومیلین

(۴) فسفاتیدیل‌کولین

- ۵- تشکیل آمیلوبید فیبریل توسط کدام مورد یا موارد بررسی می‌شود؟  
 (۱) XRD (۲) FTIR (۳) THT fluorescence (۴) هر سه مورد صحیح است.
- ۶- در یک واکنش آنزیمی ابتدا غلظت سوبسترا را برابر  $K_m$  و سپس آن را ۲ برابر  $K_m$  قرار دادیم. نسبت سرعت اولیه واکنش دوم به اول کدام است؟ (مقدار آنزیم در هر دو واکنش یکسان است)  
 (۱) ۲ (۲)  $\frac{3}{2}$  (۳)  $\frac{4}{3}$  (۴) باید  $V_{max}$  معلوم باشد.
- ۷- تحرک الکتروفورزی با چه واحدی بیان می‌شود؟  
 (۱)  $CmVS^{-1}$  (۲)  $CmV^{-1}S^{-1}$  (۳)  $Cm^2VS$  (۴)  $Cm^2V^{-1}S^{-1}$
- ۸- برای ساخت داربست‌های پلیمری مناسب جهت استفاده در مهندسی بافت و ایجاد کرافت، چه نکاتی اهمیت دارند؟  
 (۱) طول، بارسطحی، آبدوستی، زیست سازگاری  
 (۲) بارسطحی، ضخامت، آبدوستی، زیست‌تخریب‌پذیری  
 (۳) مقاومت مکانیکی، اندازه، آبدوستی، زیست‌تخریب‌پذیری  
 (۴) مقاومت مکانیکی، بارسطحی، آبدوستی، زیست سازگاری
- ۹- در کدام تکنیک، نمونه مورد بررسی باید در حالت یونیزه باشد؟  
 (۱) بلورنگاری با شعاع ایکس (X-ray diffraction)  
 (۲) دورنگ نمایی حلقوی (Circular dichorism)  
 (۳) طیفسنجی جرمی (Mass spectroscopy)  
 (۴) گرماسنجی تفاضلی (Differential calorimetry)
- ۱۰- در کدام روش نمونه بروتئینی برای آماده‌سازی باید حتماً در دمای  $-190^\circ$  درجه سانتی‌گراد آماده گردد؟  
 (۱) NMR (۲) Cryo-Microtome (۳) Cryo-Electron Microscopy (۴) X-Ray Crystallography
- ۱۱- در صورت عدم جابه‌جایی لیپیدهای خنثی و باردار غشاء در یک منطقه، تأثیر افزایش دما بر دانسیته بار سطحی در آن منطقه چگونه است؟  
 (۱) تغییر نمی‌کند. (۲) باعث افزایش دانسیته بار می‌گردد.  
 (۳) باعث کاهش دانسیته بار می‌گردد. (۴) قابل پیش‌بینی نیست.
- ۱۲- در میانکنش با بافت زنده ..... یونیزاسیون غیرمستقیم انجام می‌دهند و LET بالایی دارند، درحالی‌که ..... یونیزاسیون مستقیم انجام داده و LET پایینی دارد.  
 (۱) نوترون‌ها - اشعه بتا (۲) نوترون‌ها - اشعه  $\gamma$  (۳) ذرات آلفا - اشعه بتا (۴) اشعه  $\gamma$  - اشعه X
- ۱۳- وانگومایسین چگونه از رشد باکتری‌ها جلوگیری می‌کند؟  
 (۱) با ممانعت از سنتز RNA (۲) با ممانعت از سنتز اسیدفولیک  
 (۳) با ممانعت از سنتز دیواره سلولی (۴) با ممانعت از سنتز پروتئین

- ۱۴- در ساختمان فلاژلین کدام اسید آمینه وجود ندارد؟  
 (۱) تریپتوفان (۲) سیستین (۳) فنیل آلانین (۴) گلوتامیک اسید
- ۱۵- عملکرد کدام آنزیم‌ها حل کردن لخته خون است؟  
 (۱) استافیلوکیناز و استرپتوکیناز (۲) استافیلوکیناز و استرپتودورناز  
 (۳) استرپتودورناز و استرپتوکیناز (۴) استافیلوکیناز و کواگولاز
- ۱۶- از نظر استفاده از منبع کربن و انرژی، باکتری‌های باتوزن غالباً جزء کدام دسته قرار می‌گیرند؟  
 (۱) فتواتوتروف (۲) فتوهتروتروف (۳) کمواتوتروف (۴) کموهتروتروف
- ۱۷- محل اثر آنزیم لیزوزیم بر دیواره باکتری‌ها کدام است؟  
 (۱) Tetrapeptides Interbridge  
 (۲) N-Acetylmuramic acid - Tetrapeptide  
 (۳) N-Acetylmuramic acid  $\beta(1-4)$  N-Acetylglucosamine  
 (۴) N-Acetylglucosamine  $\beta(1-4)$  N-Acetylmuramic acid
- ۱۸- فقر کدام عنصر در باکتری سبب ساخته شدن Teichuronic Acid به جای Teichoic Acid می‌گردد؟  
 (۱) آب (۲) آهن (۳) روی (۴) فسفات
- ۱۹- کدام یک از جفت توالی‌های DNA می‌تواند به عنوان تکرارهای انتهایی یک عنصر توالی الحاقی (IS) باکتریایی باشد؟  
 (۱)  $5' - GAATCCGCA - 3'$  و  $5' - GAATCCGCA - 3'$   
 (۲)  $5' - GAATCCGCA - 3'$  و  $5' - TCGGATTC - 3'$   
 (۳)  $5' - GAATCCGCA - 3'$  و  $5' - CTTAGGCGT - 3'$   
 (۴)  $5' - GAATCCGCA - 3'$  و  $5' - ACGCCTAAG - 3'$
- ۲۰- کدام یک از آسیب‌رسان‌های زیر، سیستم ترمیمی مخصوص به خود را در سلول‌های پروکاریوتی دارد؟  
 (۱) اکسیداز (۲) نور (۳) دما (۴) مواد شیمیایی
- ۲۱- کدام تغییر شیمیایی در RNA Polymerase II برای فعال‌سازی کمپلکس پیش از شروع رونویسی انجام می‌گیرد؟  
 (۱) Methylation (۲) Ubiquitination (۳) Phosphorylation (۴) Acetylation
- ۲۲- در همه موارد زیر نو ترکیبی بین دو مولکول DNA متکی به Rec است، به جز:  
 (۱) جستجوی DNA هومولوگ (۲) Single Strand exchange  
 (۳) Recombination repair (۴) Mismatch repair
- ۲۳- کدام یک جزء میکرو سائلیت‌ها است؟  
 (۱) STR (۲) Telomer (۳) Centromer (۴) VNTR
- ۲۴- نقش DEAD - box Proteins کدام است؟  
 (۱) دخالت در مرگ برنامه‌ریزی شده سلول (۲) تخریب پروتئین‌های ناقص و فرسوده  
 (۳) انتقال پروتئین به شبکه اندوپلاسمی (۴) فعالیت RNA هلیکازی
- ۲۵- فعال شدن Ras توسط mitogen باعث فروپاشی کدام یک از مولکول‌های زیر و ورود سلول به فاز S می‌شود؟  
 (۱) P<sub>۲۷</sub> (۲) E<sub>۲</sub>F (۳) Myc (۴) Cyclin D
- ۲۶- کدام یک از RNAهای زیر در هستک ساخته نمی‌شود؟  
 (۱) ۵S rRNA (۲) ۱۸S rRNA (۳) ۵.۸S rRNA (۴) ۲۸S rRNA

- ۲۷- کدام یک از پروتئین‌های ABC زیر در انتقال یون‌های کلر نقش دارد؟  
 (۱) MDR۱ (۲) MDR۲ (۳) ABCB۱ (۴) CFTR
- ۲۸- توالی سیگنال دی‌آرژنینین (X-Arg-Arg-X) مربوط به کدام پروتئین‌ها است؟  
 (۱) پروتئین‌های غشایی سیتوپلاسم (۲) پروتئین‌های غشایی موجود در ترانس گلژی  
 (۳) پروتئین‌های غشایی مقیم در ER (۴) پروتئین‌های غشایی لیزوزومی
- ۲۹- حرکت مژه‌ها در اثر کنش متقابل بین پروتئین‌های ..... می‌باشد.  
 (۱) میوزین و داینین (۲) توبولین و داینین (۳) اکتین و میوزین (۴) توبولین و اکتین
- ۳۰- کدام یک از تمایزات غشایی بین سلول‌ها ارتباط واقعی برقرار می‌کند؟  
 (۱) Zonula occludens (۲) Gap junction (۳) Zonula adherens (۴) Desmosome
- ۳۱- کشت سلول در شرایط اکسیژن پایین و دی‌اکسیدکربن ۵ درصد به چه منظوری صورت می‌گیرد؟  
 (۱) افزایش طول عمر سلول و کاهش pH (۲) کاهش رشد سلول و افزایش pH  
 (۳) افزایش طول عمر سلول و افزایش pH (۴) کاهش رشد سلول و کاهش pH
- ۳۲- کدام تصویر جهت عبور یون  $H^+$  را در تیلاکوئید کلروپلاست به طور صحیح نشان می‌دهد؟



- ۳۳- کدام یک از انواع پروتئین‌های متصل شونده به میکروتوبول (MAP)، از نظر عملکردی قابل قباس با اتصال کوفیلین برای رشته‌های اکتین می‌باشد؟  
 (۱) کاپنیزین ۸ (۲) کاتانین (۳) MAP2 (۴) پروتئین CLASP
- ۳۴- اوسیت اولیه در چه مرحله‌ای از تقسیم سلولی تا زمان تخمک‌گذاری به همان حالت باقی می‌ماند؟  
 (۱) تلوفاز (۲) پاکیتن (۳) دیپلوتن (۴) دیاکینز
- ۳۵- داروی Digoxin و Ouabain با تأثیر غیرمستقیم بر کدام پروتئین ناقل غشایی می‌تواند در درمان نوعی نارسایی قلبی (Congestive Heart Disease) تأثیر داشته باشد؟  
 (۱)  $Ca^{2+}$  Channel (۲)  $K^+$  Channel (۳)  $Na^+ / K^+$  ATPase (۴)  $Na^+$  - linked  $Ca^{2+}$  antiporter
- ۳۶- در گذر از منافذ به آنافاز، کدام یک سبب تخریب و کوتاه شدن میکروتوبول‌ها می‌شود؟  
 (۱) کاپنیزین ۴ (۲) کاپنیزین ۱۳ (۳) کاپنیزین ۷ (۴) کمپلکس داینین / داینکتین

- ۳۷- کدام دسته از کروموزوم‌های زیر در انسان **Acrocentric** هستند؟  
 (۱) ۱۳، ۱۴، ۱۶ و y (۲) ۱۴، ۱۶، ۲۱ و ۲۲ (۳) ۱۵، ۱۶، ۱۷ و ۲۲ (۴) ۱۳، ۱۵، ۲۱ و y
- ۳۸- کدام یک در تشکیل **MOMP** در غشاء خارجی مینوکندری شرکت می‌کنند؟  
 (۱) Bid, Bak (۲) Bak, Bax (۳) Bad, Bid (۴) BCl<sub>2</sub>, Bak
- ۳۹- عملکرد پروتئین یوبی‌کوئیتین (**ub**) در سلول کدام است؟  
 (۱) به پروتئین‌های بد تاخوردگی متصل و به عنوان یک مارکر آنها را جهت تجزیه به پروتئوزوم می‌برد.  
 (۲) به پروتئین‌های مختلف متصل و در پروسه‌های آپوپتوز و استرس اکسیداتیو وارد عمل می‌شود.  
 (۳) به برخی از پروتئین‌ها متصل شده و عملکرد آنها را تغییر می‌دهد ولی آنها را تجزیه نمی‌کند.  
 (۴) به پروتئین‌های کوچک به عنوان پروتئین‌های چاپرون متصل و باعث تجزیه آنها می‌شود.
- ۴۰- فرایند "**Transcytosis**" چیست؟  
 (۱) فرایند انتقال مواد از یک سلول به سلول دیگر از طریق **Gap Junction**ها را گویند.  
 (۲) فرایند انتقال مواد از جریان خون به داخل سلول را گویند.  
 (۳) فرایندی است که طی آن گیرنده‌های اندوسیتوزی از اندوزوم به بخش دیگری از غشاء پلاسمایی به‌جز بخشی که قبلاً از آن منشأ گرفته است برگشت داده می‌شود.  
 (۴) فرایندی است که طی آن گیرنده‌های اندوسیتوزی از اندوزوم به بخش دیگری از غشاء پلاسمایی که قبلاً از آن منشأ گرفته است برگشت داده می‌شود.
- ۴۱- کدام یک جزء کانال‌های یونی مهاری محسوب می‌گردد؟  
 (۱) Glutamate – gated Ca<sup>2+</sup> Channel (۲) Acetylcholine – gated cation channel  
 (۳) Serotonin – gated Ca<sup>2+</sup> channel (۴) Glycine – gated Cl<sup>-</sup> channel
- ۴۲- کدام یک از گزینه‌های زیر در ارتباط با ناقل پروتئینی **ABC** صحیح است؟  
 a. خانواده بزرگی از پروتئین‌های ناقل می‌باشند که با مصرف انرژی به شکل **ATP** در انتقال مواد از عرض غشاء نقش دارند.  
 b. خانواده بزرگی از پروتئین‌های ناقل که در هر دوی یوکاریوت‌ها و پروکاریوت‌ها یافت می‌شود.  
 c. خانواده بزرگی از پروتئین‌های ناقل می‌باشند که از طریق انتشار تسهیل شده به انتقال مواد از عرض غشاء کمک می‌کنند.  
 d. در انتقال بینیدها و مولکول‌های کوچک از عرض غشاء و همچنین مقاومت دارویی نقش دارند.  
 e. همانند پمپ‌های پروتونی موجود در غشاء مینوکندری جهت تأمین انرژی و تولید **ATP** در باکتری‌ها استفاده می‌شوند.  
 f. نوعی پمپ مستقل از **ATP** می‌باشند که در انتقال یون‌ها نقش دارند.
- (۱) b, c (۲) a, b, f (۳) a, b, d (۴) c, e, f
- ۴۳- استروئید موجود در غشاء پلاسمایی سلول‌های گیاهی و قارچی به ترتیب کدام‌اند؟  
 (۱) ارگاسترول و استیگماسترول (۲) استیگماسترول و لانوسترول  
 (۳) لانوسترول و ارگاسترول (۴) کلسترول و لانوسترول
- ۴۴- کدام یک از پروتئین‌های زیر تراغشایی (**Transmembrane**) است؟  
 (۱) Src (۲) PKA (۳) JAK (۴) TGF - β

- ۴۵- چند مورد از مطالب زیر صحیح می‌باشد؟
- a - اغلب پورین‌ها از بشکه‌های بتا ( $\beta$  barrels) تشکیل شده‌اند.
  - b - اکواپورین‌ها دارای چند الفاهلیکس ( $\alpha$  helix) ترانس ممبر هستند.
  - c - گلیکوفورین A در غشای گلبول قرمز یک پروتئین سراسری می‌باشد.
  - d - پروتئین‌های متصل از طریق گلیکوزین فسفاتیدیل اینوزیتول غشایی به راحتی با محلول‌های نمکی از غشاء جدا می‌شوند.

- ۴۶- در انتقال گلوکز به داخل گلبول‌های قرمز از طریق GLUT-1، اگر قند خون از حد نرمال پائین‌تر باشد:

- (۱) گلوکز از داخل سلول خارج نمی‌شود، چون بعد از ورود به سلول فسفریله شده است.
- (۲) گلوکز از داخل سلول از طریق GLUT-1 وارد جریان خون می‌شود.
- (۳) گلوکز در داخل سلول می‌ماند، چون GLUT-1 قند را فقط در یک مسیر انتقال می‌دهد.
- (۴) گلوکز در داخل سلول می‌ماند، چون در غلظت پایین قند GLUT‌ها بسته می‌شوند.

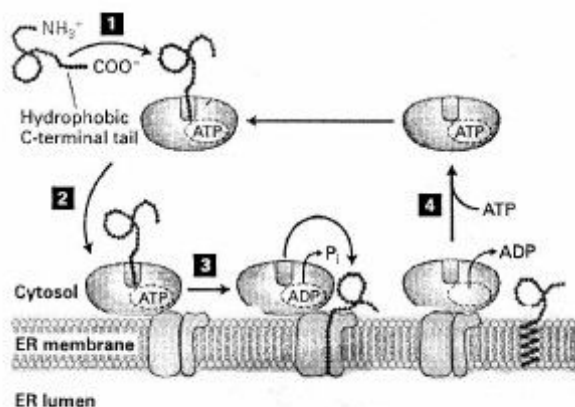
- ۴۷- در تقسیم سلولی به روش میوز کروموزم‌های مشابه در کدام مرحله از یکدیگر جدا می‌شوند؟
- (۱) آنافاز I
  - (۲) تلوفاز I
  - (۳) آنافاز II
  - (۴) دیاکنیز

- ۴۸- گلوکز - ۶ - فسفاتاز آنزیم اختصاصی کدام اندامک سلولی است؟
- (۱) لیزوزوم
  - (۲) دستگاه گلژی
  - (۳) شبکه اندوپلاسمی خشن
  - (۴) شبکه اندوپلاسمی صاف

- ۴۹- GTPase مرتبط با کدام یک از پروتئین‌های پوششی زیر با بقیه متفاوت است؟
- (۱) CoP I
  - (۲) CoP II
  - (۳) کلاترین + GGA
  - (۴) کلاترین + AP

- ۵۰- پلی‌بومی کوئیتینه شدن و مونوبومی کوئیتینه شدن پروتئین به ترتیب در چه فرایندی نقش دارند؟
- (۱) تجزیه پروتئین - تجزیه پروتئین
  - (۲) نقش تنظیمی - تجزیه پروتئین
  - (۳) تجزیه پروتئین - تنظیم فعالیت پروتئین
  - (۴) نقش تنظیمی - نقش تنظیمی

- ۵۱- در شکل زیر ملکولی که هدایت **tail - anchored protein** را به غشاء ER به عهده دارد، کدام است؟
- (۱) Oxal
  - (۲) Get
  - (۳) GPI
  - (۴) SRP



- ۵۲- با اتصال هورمون erythropoietin به گیرنده خود در پیش‌ساز گلبول‌های قرمز و فعال شدن STAT-5، بیان کدام ژن افزایش می‌یابد؟

- (۱) Fas
- (۲) Caspase-9
- (۳) Bad
- (۴) Bcl-X<sub>L</sub>

۵۳- توالی زیر مربوط به ADP/ATP antiporter می‌باشد که بعد از سنتز در سینتوزول در غشاء داخلی میتوکندری فرار می‌گیرد. این پروتئین توسط کدام یک از گیرنده‌های غشاء خارجی میتوکندری شناسایی و به غشاء داخلی هدایت می‌شود؟



Tom<sub>20-40</sub> (۴)      Tom<sub>70-20</sub> (۳)      Tom<sub>20-22</sub> (۲)      Tom<sub>70-22</sub> (۱)

۵۴- در تلوفاز جهت خروج سلول از مینوز کدام کمپلکس باعث فروپاشی سایکلین‌های B می‌شود؟

SCF - cdc<sub>25</sub> (۴)      APC - cdc<sub>20</sub> (۳)      APC - cdh<sub>1</sub> (۲)      SCF - ctd<sub>1</sub> (۱)

۵۵- مناسبون در تکرارهای FG کدام یک، مانع از ورود پروتئین‌ها به اندامک مربوطه می‌شود؟

(۱) در Pex<sub>10</sub> - به پراکسی‌زوم      (۲) در Tim<sub>23</sub> - به ماتریکس میتوکندری

(۳) در نوکلئوپورین‌های منافذ هسته - به هسته      (۴) در Sec<sub>61α</sub> - به شبکه آندوپلاسمی

۵۶- کدام آنزیم مختص پراکسی‌زوم‌ها می‌باشد؟

(۱) پیرووات دهیدروژناز      (۲) استیل گلوکز آمینیداز      (۳) آریل آمیداز      (۴) اوریکاز

۵۷- همهٔ چابرون‌های زیر در زمان بسته‌بندی پروتئین‌ها در شبکه آندوپلاسمی خشن می‌توانند به اسیدهای آمینه در معرض متصل شوند، به جز:

Prolyl isomerase (۴)      Calnexin (۳)      PDI (۲)      Bip (۱)

۵۸- کدام یک از پروتئین‌های زیر، نقش مهاری در فرایند مرگ برنامه‌ریزی شده سلول‌ها دارند؟

Caspase - ۹ (۴)      Smac (۳)      BCL<sub>2</sub> (۲)      Bim (۱)

۵۹- در زل مربوط به RNA استخراج شده چند پاند دیده می‌شود و مربوط به کدام خانواده زتی است؟

tRNA<sub>2</sub> (۴)      tRNA<sub>1</sub> (۳)      rRNA<sub>2</sub> (۲)      rRNA<sub>1</sub> (۱)

۶۰- همانندسازی mtDNA به وسیلهٔ کدام آنزیم صورت می‌گیرد؟

(۱) DNA پلیمراز α      (۲) DNA پلیمراز β      (۳) DNA پلیمراز ε      (۴) DNA پلیمراز γ

۶۱- عبارت درست در رابطه با ژنوم اشریشیاکلی کدام است؟

(۱) در شرایط طبیعی به صورت سوپرکویل مثبت می‌باشد.

(۲) بزرگی و کوچکی ژنوم ارتباطی به تعداد ژن‌های موجود در آن ندارد.

(۳) به دلیل کوچک بودن در آن pseudogen ها وجود ندارد.

(۴) هر لوپ به عنوان یک واحد مستقل توپولوژیکی عمل می‌کند و درجه سوپرهلیسیته (Superhelix density) آن می‌تواند با سایر لوپ‌ها متفاوت باشد.

۶۲- کدام یک از گزینه‌های زیر در رابطه با سیستم ترمیم SOS صحیح می‌باشد؟

a. پروتئین RexA عامل مهار ابرون سنتزکننده آنزیم DNA پلیمراز دخیل در ترمیم آسیب است.

b. سیستم ترمیم SOS یک سیستم ترمیم مستعد به خطا می‌باشد.

c. آنزیم RecA در مهار فعالیت LexA نقش دارد.

d. محصول ابرون UmuC/D در سیستم ترمیم SOS نقشی ندارد.

e. آنزیم DNA پلیمراز V در سیستم SOS نقش دارد.

(۱) d      (۲) a, c      (۳) b, c, e      (۴) a, c, d, e



- ۶۳- کدام یک از گزینه‌های زیر در رابطه با فرایند نوترکیبی در *E. coli* صحیح است؟
- a. پروتئین RuvA به کمک RuvB با اتصال به Holiday junctions مهاجرت شاخه را طی فرایند نوترکیبی تسهیل می‌کند.
- b. پروتئین RuvA به صورت همگام نقش خود را طی فرایند نوترکیبی اعمال می‌کند.
- c. پروتئین RuvB با استفاده از فعالیت‌های هلیکازی و ATPase، مهاجرت شاخه را در «Holiday junctions» تسهیل می‌کند.
- d. RuvC به صورت منومر با فعالیت نوکلئازی «Holiday junctions» را از بین می‌برد.
- e. پروتئین RuvA دارای فعالیت ATPase می‌باشد.
- f. پروتئین RuvC به صورت تصادفی بخشی از «Holiday junctions» را بریده و باعث از بین رفتن آن می‌شود.
- (۱) c, f (۲) a, c, d (۳) a, b, d, e (۴) b, c, d, e, f
- ۶۴- به ترتیب کدام یک از موارد زیر به‌عنوان «Clamp loader» و «Sliding clamp» را در آنزیم DNA پلیمراز اصلی در همانندسازی پروکاریوت‌ها عمل می‌کند؟
- (۱) کمپلکس  $\gamma$  - زیرواحد  $\beta$  (۲) کمپلکس  $\gamma$  - زیرواحد  $\epsilon$
- (۳) زیرواحد  $\alpha$  - کمپلکس  $\gamma$  (۴) زیرواحد  $\theta$  - زیرواحد  $\alpha$
- ۶۵- در باکتری اشریشیاکلی، در برداشتن مستقیم گروه متیل از روی 3-methyl-cytocine و تبدیل آن به cytocine کدام آنزیم نقش کلیدی دارد؟
- (۱) Ada (۲) Alk-B (۳) otg (۴) MutT
- ۶۶- جابه‌جایی بخش‌هایی از کروموزوم‌های غیرمشابه را ..... می‌گویند.
- (۱) Transition (۲) Transduction (۳) Translocation (۴) Crossing over
- ۶۷- در کدون‌های فرضی GGC CGT CCT AGT GAC کدام تغییر موجب بیشترین آسیب می‌گردد؟
- (۱) اضافه شدن یک باز پس از کدون اول (۲) حذف سه باز مربوط به کدون اول
- (۳) جایگزینی باز ششم (T) با باز A (۴) حذف سه باز مربوط به کدون چهارم
- ۶۸- آنزیم S1 نوکلئاز چه نوع فعالیتی دارد؟
- (۱) اندونوکلئازی روی DNA تک‌رشته‌ای (۲) اگزونوکلئازی روی RNA تک‌رشته‌ای
- (۳) اندونوکلئازی روی DNA دورشته‌ای (۴) اگزونوکلئازی روی DNA تک‌رشته‌ای
- ۶۹- کدام یک mobile DNA element محسوب نمی‌شود؟
- (۱) IS elements (۲) Transposons (۳) LINES (۴) LTR
- ۷۰- کدام مورد از مراحل زیر برای جداسازی و رنگ آمیزی کروموزوم‌ها در مطالعات سینوزنتیکی به بهترین نتیجه می‌انجامد؟
- (۱) متافاز (۲) اترافاز (۳) تروفاز (۴) آنافاز
- ۷۱- کدام یک خاصیت هلیکازی ندارد؟
- (۱) PriA (۲) DnaB (۳) DnaC (۴) Rep
- ۷۲- کدام یک در همانندسازی و جدا شدن (Segregation) کروموزوم‌های یوکاریوتی مؤثر نمی‌باشد؟
- (۱) Telomer (۲) Centromer (۳) Kinetochore (۴) Replication origin
- ۷۳- برای پسته‌بندی نوکلئوزوم در فرایند غیروابسته به همانندسازی، کدام پروتئین دخیل می‌باشد؟
- (۱) H<sub>۳</sub> (۲) CAF-1 (۳) Cse4 (۴) HIRA

- ۷۴- کدام یک فاقد فعالیت تصحیح می‌باشد؟  
 (۱) DNA پلی‌مرز  $\alpha$  (۲) DNA پلی‌مرز  $\beta$  (۳) DNA پلی‌مرز  $\delta$  (۴) DNA پلی‌مرز  $\gamma$
- ۷۵- کدام یک از مدل‌های زیر جهت شروع فرایند رونویسی توسط آنزیم RNA پلی‌مرز باکتری پذیرفته شده است؟  
 (۱) Scrunching (فشرده و کشیده شدن مولکول DNA توسط آنزیم)  
 (۲) Continuous excursions (حرکت مداوم و پیوسته آنزیم در طول DNA)  
 (۳) Transient excursions (حرکت‌های مقطعی و ناپیوسته آنزیم در طول DNA)  
 (۴) Inchworming (حرکت کرمی شکل و خزیدن آنزیم در طول DNA)
- ۷۶- مفهوم polarity یا قطبیت در یک واحد رونویسی به چه معناست؟  
 (۱) ایجاد ساختارهای ثانویه در RNA و جلوگیری از رسیدن فاکتور  $\rho$  به RNA پلی‌مرز  
 (۲) ممانعت ریبوزوم‌ها از رسیدن فاکتور  $\rho$  (Rho) به RNA پلی‌مرز  
 (۳) ایجاد یک جهش nonsense در یک واحد کپی‌برداری مانع از بیان ژن‌های بعدی در آن واحد  
 (۴) به‌کارگیری آنزیم RNA پلی‌مرز بر اثر ایجاد جهش nonsense و آزاد شدن ریبوزوم‌ها
- ۷۷- کدام یک از فاکتورهای سیگمای آنزیم RNA پلی‌مرز باکتری *E. coli* در فعالیت ژن‌های دخیل در پروتئین‌های فضای پری‌پلاسمیک که نقش جابرونی ایفا می‌کنند، وظیفه دارند؟  
 (۱)  $\sigma_{24}$  (۲)  $\sigma_{28}$  (۳)  $\sigma_{32}$  (۴)  $\sigma_{54}$
- ۷۸- در پروتئین‌های کلاس II یوکاریوتی کدام ترتیب از چپ به راست در اتصال و شروع رونویسی درست می‌باشد؟  
 (۱) POIII, TFIID, TFIIB, TFIIF  
 (۲) TFIID, TFIIB, POIII, TFIIF  
 (۳) TFIIB, POIII, TFIIF, TFIID  
 (۴) TFIIB, TFIIF, TFIID, POIII
- ۷۹- hnRNA A / B به کدام ناحیه متصل می‌شود؟  
 (۱) Intronic Splicing Silencer (ISS)  
 (۲) Intronic Splicing Enhancer (ISE)  
 (۳) Exonic Splicing Enhancer (ESE)  
 (۴) Exonic Splicing Silencer (ESS)
- ۸۰- در پیرایش mRNA مربوط به پروتئین HAC1 کدام عامل شرکت می‌کند؟  
 (۱)  $U_4AF$  (۲)  $Pr P_8$  (۳) tRNA لیگاز (۴)  $U_4snRNA$
- ۸۱- فاکتور رونویسی GreB در پروکاریوت‌ها شبیه به کدام فاکتور در یوکاریوت عمل می‌کند؟  
 (۱) TFIIIS (۲) P-TEFb (۳) hsPT5 (۴) FACT
- ۸۲- در یوکاریوت‌ها اگر به هستک سلول آسیب وارد شود، کدام اتفاق زیر محتمل است؟  
 (۱) DNA تجزیه می‌شود.  
 (۲) mRNA رونویسی نمی‌شود.  
 (۳) tRNA رونویسی نمی‌شود.  
 (۴) سنتز پروتئین متوقف می‌شود.
- ۸۳- اگر در ساختمان  $IF_2$  در پروکاریوت‌ها به جای GTP یک آنالوگ غیرقابل هیدرولیز (GDP-PCP) قرار دهید، در پروسه شروع ترجمه چه اتفاقی می‌افتد؟  
 (۱)  $IF_2$  نمی‌تواند tRNA حامل فرمیل متیونین را در جایگاه P ریبوزوم قرار دهد.  
 (۲) کمپلکس ۷۰S شکل نمی‌گیرد.  
 (۳)  $IF_1$  و  $IF_2$  از ریبوزوم جدا نمی‌شود.  
 (۴)  $IF_2$  نمی‌تواند از ریبوزوم جدا شود.
- ۸۴- کدام آنتی‌بیوتیک مانع از جدا شدن EF-G-GDP از ریبوزوم می‌شود؟  
 (۱) تتراسیکلین (۲) کلرامفنیکل (۳) فیزیدیک اسید (۴) پورومایسین

- ۸۵- در یوکاریوت‌ها کدام یک مانع از اتصال زیر واحد بزرگ به زیر واحد کوچک ریبوزومی می‌گردد؟  
 (۱) eif3 و eif4 (۲) eif1A و eif3 (۳) eif4 و eif5 (۴) eif1A و eif6
- ۸۶- کدام یک از مولکول‌های زیر در تعیین موقعیت نوکلئوتیدی جهت مشابه شدن یا ایجاد سودوبوریدین در مولکول‌های rRNA نقش دارد؟  
 (۱) srRNA (۲) scRNA (۳) ssRNA (۴) SnoRNA
- ۸۷- در جایگاه فعال آنزیم RNA پلی‌مراز کدام اسید آمینه یا یون  $Mg^{2+}$  برای تشکیل پیوند فسفو دی استری در تعامل است و مناسیون آن باعث مرگ سلول می‌شود؟  
 (۱) Aspartic Acid (۲) Lysin (۳) Histidin (۴) Threonin
- ۸۸- در ژن‌هایی که محصول پروتئینی آن‌ها برای خود سلول سمی می‌باشد، کدام یک به عنوان کدون آغازین عمل می‌کند؟  
 (۱) GUG (۲) AUU (۳) UUG (۴) AUG
- ۸۹- سربوش نوع ۲ در mRNA چه موجوداتی وجود دارد؟  
 (۱) فقط در ویروس‌ها (۲) یوکاریوت‌ها  
 (۳) در ویروس‌ها و یوکاریوت‌ها (۴) فقط در یوکاریوت‌های تک‌سلولی
- ۹۰- باکتری در شرایط گرسنگی رونویسی ..... را کاهش و ..... را افزایش می‌دهد.  
 (۱) lamRNA - سنتز لیپیدها (۲) tmRNA - سنتز پروتئین‌ها  
 (۳) rRNA - تجزیه پروتئین‌ها (۴) tRNA - تولید هیدرات‌های کربن
- ۹۱- بهترین مورد برای استفاده به عنوان کنترل داخلی برای تعیین میزان بیان ژن‌ها در انسان، کدام است؟  
 (۱) Alu (۲) ACTIN (۳) GAPDH (۴) SOX<sub>۲</sub>
- ۹۲- CRISPER چیست؟  
 (۱) نوعی ابزار دفاعی باکتریایی است که از طریق مهار بیان، crRNAs باعث مهار تشکیل کمپلکس Cas9 - crRNA شده و باعث مهار ترجمه mRNAs ویروس می‌شود.  
 (۲) نوعی ابزار ویروسی است که از طریق مهار بیان crRNAs و در نتیجه مهار تشکیل کمپلکس Cas9 - crRNA باعث تخریب mRNAs باکتریایی و کنترل بیان آن می‌شود.  
 (۳) نوعی ابزار ویروسی است که از طریق بیان و تولید crRNAs و در نتیجه کمک به تشکیل کمپلکس Cas9 - crRNA به ادغام DNA ویروس در ژنوم باکتری کمک می‌کند.  
 (۴) نوعی ابزار دفاعی باکتریایی است که از طریق بیان و تولید crRNAs باعث تشکیل کمپلکس Cas9 - crRNA شده و باعث تخریب DNA ویروس می‌شود.
- ۹۳- کدام یک از موارد زیر در رابطه با سیکل‌های لیزوزنی و لیتیک فاز  $\lambda$ ، صحیح است؟  
 (a) پروتئین رپرسور  $\lambda$  (CI) به نواحی ابراتور  $O_{R1}$  و  $O_{R2}$  متصل شده و مانع از شروع رونویسی از ناحیه بروموتری  $P_R$  و باعث ابقاء حالت لیزوزنی می‌شود.  
 (b) پس از آلوده شدن یک سلول جدید توسط فاز  $\lambda$  پروتئین CI تنظیم‌کننده ورود فاز به حالت لیزوزنی یا لیتیک است.  
 (c) پروتئین Cro با اتصال به ناحیه ابراتور  $O_{R2}$  مانع از شروع رونویسی ژن CI و ابقاء فاز لیتیک می‌شود.  
 (d) پروتئین CII با اتصال به  $P_{RE}$  باعث ابقاء بیان ژن CI و ابقاء حالت لیزوزنی می‌شود.  
 (e) شرایط گشت تعیین‌کننده میزان بیداری پروتئین CII ورود فاز به حالت لیزوزنی یا لیتیک می‌باشد.  
 (f) پروتئین CIII از طریق ناپایدار کردن پروتئین CII به ابقاء فاز لیتیک کمک می‌کند.  
 (۱) a و b (۲) c و d و e (۳) a و c و d و f (۴) a و b و d و e و f

- ۹۴- repressor تریپتوفان از طریق کدام یک از DNA binding motif های زیر به DNA متصل می‌شود؟  
 (۱) b zip (۲) Helix-loop-helix (۳) Helix-turn-helix (۴) Zinc fingers
- ۹۵- دلیل عدم بیان ژن های heat shock در اشیرشیاکلی در دمای ۳۷ درجه سانتی‌گراد کدام است؟  
 (۱) فاکتور سیگما ۳۲ به عنوان شناساگر پرموتور این ژن‌ها، در این دما بیان نمی‌شود.  
 (۲) فاکتور سیگما ۳۲ به عنوان شناساگر پرموتور این ژن‌ها، در این دما توسط پروتئازهای سلول از بین می‌رود.  
 (۳) بیان این ژن‌ها به فاکتوری به نام Dna k وابسته هست که فقط در شرایط Heat-shock تولید می‌شود.  
 (۴) فولدینگ ژنوم باکتری در این دما به طوری هست که این ژن‌ها در معرض RNA پلی‌مراز قرار نمی‌گیرند.
- ۹۶- مولکول‌هایی مانند SW<sub>۱</sub>/SNF و IN080 با چه مکانیزمی باعث تنظیم بیان ژن در سلول‌های یوکاریوتی می‌شوند؟  
 (۱) Covalent histone modification (۲) Nucleosome remodeling  
 (۳) Nucleosome removal (۴) Nucleosome replacement
- ۹۷- فرض کنید دو ژن هر کدام به طول یک کیلو باز داریم و فاصله میان این دو ژن کمتر از ۴ کیلو باز است. ژن اول دارای Enhancer قوی است که تا ۶ کیلوباز بالا و پایین دست خود قادر به اعمال فعالیت خود است با این حال ژن دوم توسط این Enhancer متأثر نمی‌شود. علت چیست؟  
 (۱) فاصله زیاد بین دو ژن  
 (۲) ساختمان متفاوت پرموتور این دو ژن  
 (۳) وجود Insulator بین دو ژن  
 (۴) اختصاصیت فعال‌کننده به Enhancer
- ۹۸- در ابرون لک در حضور لاکتوز و گلوکز کدام یک به عنوان ماده تأمین‌کننده انرژی مورد استفاده قرار می‌گیرد و کنترل این ابرون از چه نوعی می‌باشد؟  
 (۱) گلوکز - کنترل مثبت (۲) گلوکز - کنترل منفی (۳) لاکتوز - کنترل مثبت (۴) لاکتوز - کنترل منفی
- ۹۹- کدام پروتئین سبب شناسایی acetylation هیستون‌ها می‌شود و effector این واکنش از چه نوعی است؟  
 (۱) Remodeling Factors -Gg (۲) Remodeling Factors-bromo  
 (۳) Transcription Factor - Gg (۴) Transcription Factor - bromo
- ۱۰۰- در ابراتورهای Lac که به صورت ساختاری (constitutive) جهش یافته‌اند، کدام مورد صحیح است؟  
 (۱) اتصال القاگر به رپرسور مهار می‌شود.  
 (۲) اتصال RNA پلی‌مراز به پرموتور مهار می‌شود.  
 (۳) رپرسور Lac به صورت پیوسته بیان می‌شود.  
 (۴) آنزیم بتا گالاکتوسیداز به صورت پیوسته بیان می‌شود.