

پیاچدی تست: نخستین وبسایت تخصصی آزمون دکتری



کد کنترل

689

A

صبح جمعه ۹۷/۱۲/۳ دفترچه شماره (۱)			«اگر دانشگاه اصلاح شود مملکت اصلاح می‌شود.» امام خمینی (ره)	
		جمهوری اسلامی ایران وزارت علوم، تحقیقات و فناوری سازمان سنجش آموزش کشور		
آزمون ورودی دوره دکتری (نیمه‌متمرکز) - سال ۱۳۹۸				
رشته مهندسی برق - کنترل - کد (۲۳۰۵)				
مدت پاسخ‌گویی: ۱۵۰ دقیقه		تعداد سؤال: ۴۵		
عنوان مواد امتحانی، تعداد و شماره سؤالات				
ردیف	مواد امتحانی	تعداد سؤال	از شماره	تا شماره
۱	مجموعه دروس تخصصی: ریاضیات مهندسی - مدارهای الکتریکی (۱ و ۲) - سیگنال‌ها و سیستم‌ها - سیستم‌های کنترل خطی	۴۵	۱	۴۵
این آزمون نمره منفی دارد.		استفاده از ماشین حساب مجاز نیست.		
حل جابه‌جایی و انتشار سؤالات به هر روش (الکترونیکی و...) پس از برگزاری آزمون، برای تمامی اشخاص حقیقی و حقوقی تنها با مجوز این سازمان مجاز می‌باشد و با متخلفین برابر مقررات رفتار می‌شود.				
۱۳۹۸				

پی‌اچ‌دی تست: نخستین وب‌سایت تخصصی آزمون دکتری

صفحه ۲

آزمون ورودی دوره دکتری (نیمه‌متمرکز) - کد (۲۳۰۵) 689A

* داوطلب گرامی، عدم درج مشخصات و امضا در مندرجات جدول ذیل، به‌منزله عدم حضور شما در جلسه آزمون است.

اینجانب با شماره داوطلبی در جلسه این آزمون شرکت می‌نمایم.

امضا:

۱- فرض کنید $z = x + iy$ باشد. مقدار ماکزیمم $|\sin z|$ در دامنه مربعی شکل $D = \{(x, y), 0 \leq x, y \leq 2\pi\}$ کدام است؟

(۱) ۱

(۲) $e^{2\pi}$

(۳) $\sinh 2\pi$

(۴) $\cosh 2\pi$

۲- جواب مسئله پواسن روبه‌رو کدام است؟

$$\begin{cases} \frac{\partial^2 \omega}{\partial r^2} + \frac{1}{r} \frac{\partial \omega}{\partial r} + \frac{1}{r^2} \frac{\partial^2 \omega}{\partial \theta^2} = \frac{\sin \theta}{r^2}, & 0 < r < 2, \quad 0 < \theta < 2\pi \\ \omega(r, 0) = 0 \\ \omega(2, \theta) = \sin 3\theta \end{cases}$$

$$\omega(r, \theta) = \sum_{n=1}^{\infty} r^n \sin 3n\theta \quad (1)$$

$$\omega(r, \theta) = \frac{1}{2} r \sin \theta + \frac{1}{8} r^7 \sin \theta \quad (2)$$

$$\omega(r, \theta) = \sum_{n=1}^{\infty} (r^n + r^{-n}) \sin 3n\theta \quad (3)$$

$$\omega(r, \theta) = \left(\frac{1}{2} r - 1\right) \sin \theta + \frac{1}{8} r^7 \sin 3\theta \quad (4)$$

۳- انتگرال فوریه تابع $f(x) = \begin{cases} |\sin x|, & |x| \leq \pi \\ 0, & |x| > \pi \end{cases}$ کدام است؟

$$(1) \frac{1}{\pi} \int_0^{\infty} \frac{1 + \cos(\omega\pi)}{1 - \omega^2} \cos(\omega x) d\omega$$

$$(2) \frac{1}{\pi} \int_0^{\infty} \frac{1 + \cos(\omega\pi)}{1 - \omega^2} \omega \cos(\omega x) d\omega$$

$$(3) \frac{2}{\pi} \int_0^{\infty} \frac{1 + \cos(\omega\pi)}{1 - \omega^2} \cos(\omega x) d\omega$$

$$(4) \frac{2}{\pi} \int_0^{\infty} \frac{1 + \cos(\omega\pi)}{1 - \omega^2} \omega \cos(\omega x) d\omega$$

۴- معادله دیفرانسیل جزئی ناهمگن زیر با تغییر متغیر $u(x,t) = v(x,t) + r(x)$ به یک معادله همگن با شرایط مرزی همگن تبدیل می‌شود. $v(x,0)$ کدام است؟

$$\begin{cases} u_{xx} = u_t + x - 1, & 0 < x < 2, t > 0 \\ u(0,t) = 3, & u(2,t) = -1, t > 0 \\ u(x,0) = 1 - x^2, & 0 < x < 2 \end{cases}$$

$$(1) -\frac{7}{6}x^2 + \frac{1}{2}x^2 - \frac{5}{3}x - 2$$

$$(2) -\frac{7}{6}x^2 + \frac{1}{2}x^2 + \frac{5}{3}x - 2$$

$$(3) -\frac{7}{6}x^2 + \frac{1}{2}x^2 + \frac{5}{3}x + 3$$

$$(4) -\frac{7}{6}x^2 + \frac{1}{2}x^2 - \frac{5}{3}x + 3$$

۵- اگر $v(x,y)$ مزدوج همساز تابع $u(x,y) = (x^2 - y^2 + 1)^2 - 4x^2y^2$ با شرط $v(0,0) = 0$ باشد، مقدار $v(1,1)$ کدام است؟

(1) 1

(2) -1

(3) 4

(4) -4

پیاچدی تست: نخستین وبسایت تخصصی آزمون دکتری

۶- سری نیم‌دامنه سینوسی تابع $f(x) = x(\pi - x)$ در فاصله $0 < x < \pi$ کدام است؟

$$\sum_{m=0}^{\infty} \frac{1}{(2m+1)^2 \pi} \sin(2m+1)x \quad (1)$$

$$\sum_{m=0}^{\infty} \frac{4}{(2m+1)\pi} \sin(2m+1)x \quad (2)$$

$$\sum_{m=1}^{\infty} \frac{1}{m^2 \pi} \sin 2mx \quad (3)$$

$$\sum_{m=1}^{\infty} \frac{2}{m\pi} \sin 2mx \quad (4)$$

۷- اگر $F(\omega, t) = \int_{-\infty}^{\infty} f(x, t) e^{-i\omega x} dx$ تبدیل فوریه $f(x)$ باشد، تبدیل فوریه جواب مسئله زیر کدام است؟

$$\begin{cases} u_t - a^2 u_{xx} = f(x, t) & , t > 0, x \in \mathbb{R} \\ u(x, 0) = 0 & , x \in \mathbb{R} \end{cases}$$

$$\int_0^t F(\omega, \tau) e^{a^2 \omega^2 (t-\tau)} d\tau \quad (1)$$

$$\int_0^t F(\omega, \tau) e^{-a^2 \omega^2 (t-\tau)} d\tau \quad (2)$$

$$\int_0^{\infty} F(\omega, \tau) e^{-a^2 \omega^2 (t-\tau)} d\tau \quad (3)$$

$$\int_{-\infty}^{\infty} F(\omega, \tau) e^{-a^2 \omega^2 (t-\tau)} d\tau \quad (4)$$

۸- فرض کنید تابع تحلیلی $f: \mathbb{C} \rightarrow \mathbb{C}$ برای هر $z \in \mathbb{C}$ در نامساوی $|f(z) - 2z^2 - iz| \leq \sqrt{2}$ صدق کند. در

این صورت مقدار $\oint_{|z|=1} f\left(\frac{1}{z}\right) dz$ کدام است؟

(1) $2\pi i$

(2) $-2\pi i$

(3) 2π

(4) -2π

۹- تصویر خط راست $2x + 3y = 5$ تحت نگاشت $w = u + iv = \frac{1}{z}$ کدام است؟

$$(1) \left(u - \frac{1}{5}\right)^2 + \left(v + \frac{3}{10}\right)^2 = \frac{13}{100}$$

$$(2) \left(u - \frac{1}{5}\right)^2 + \left(v - \frac{3}{10}\right)^2 = \frac{13}{100}$$

$$(3) \left(u + \frac{1}{5}\right)^2 + \left(v - \frac{3}{10}\right)^2 = \frac{13}{100}$$

$$(4) \left(u + \frac{1}{5}\right)^2 + \left(v + \frac{3}{10}\right)^2 = \frac{13}{100}$$

۱۰- فرم کلی جواب مسئله موج زیر کدام است؟

$$\begin{cases} u_{tt}(x, y, t) - 9\nabla^2 u(x, y, t) = \begin{cases} te^{-|x+y|} & 0 < x < 1 \\ 0 & x > 1 \end{cases}, y \in \mathbb{R}, t > 0 \\ u(x, y, 0) = \begin{cases} x+y & 0 < x < 1, -2 < y < 2 \\ 0 & \text{سایر جاها} \end{cases} \\ u_t(x, y, 0) = 0, x > 0, y \in \mathbb{R} \\ u(0, y, t) = 0, y \in \mathbb{R} \end{cases}$$

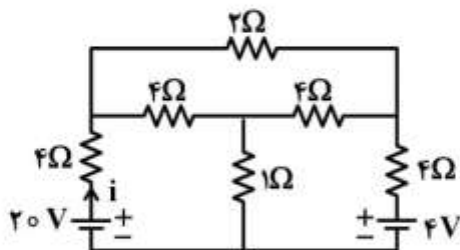
$$u(x, y, t) = \int_{-\infty}^{\infty} \int_0^1 (A_{\omega} \cos \tau \omega t + B_{\omega} \sin \tau \omega t + C_{\omega} t + D_{\omega}) e^{i\omega y} \sin(\omega x) dx dy \quad (1)$$

$$u(x, y, t) = \int_{-2}^2 \int_0^1 (A_{\omega} \cos \tau \omega t + B_{\omega} \sin \tau \omega t + C_{\omega} t + D_{\omega}) e^{i\omega y} \sin(\omega x) dx dy \quad (2)$$

$$u(x, y, t) = \int_0^{\infty} \int_0^{\infty} (A_{\omega} \cos \tau \omega t + B_{\omega} \sin \tau \omega t + C_{\omega} t + D_{\omega}) e^{i\omega y} \sin(\omega x) dx dy \quad (3)$$

$$u(x, y, t) = \int_{-\infty}^{\infty} \int_0^{\infty} (A_{\omega} \cos \tau \omega t + B_{\omega} \sin \tau \omega t + C_{\omega} t + D_{\omega}) e^{i\omega y} \sin(\omega x) dx dy \quad (4)$$

۱۱- در مدار مقاومتی زیر، جریان i چند آمپر است؟



$$(1) \frac{2}{5}$$

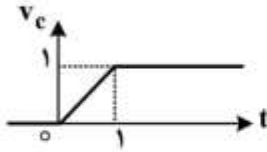
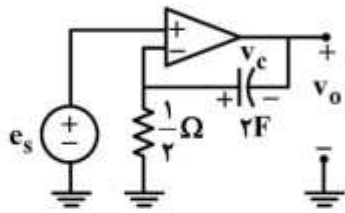
$$(2) \frac{3}{7}$$

$$(3) \frac{43}{15}$$

$$(4) \frac{53}{15}$$

پیاچدی تست: نخستین وبسایت تخصصی آزمون دکتری

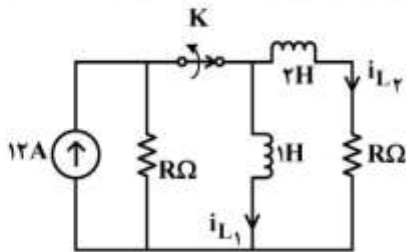
۱۲- در مدار زیر، تقویت کننده عملیاتی ایدئال و شکل موج ولتاژ دو سر خازن مطابق شکل زیر است. ولتاژ خروجی



$v_o(t)$ در بازه $0 < t < 1$ با چه عبارتی داده می شود؟

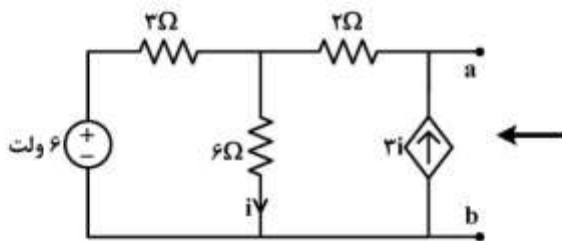
- (۱) $1-t$
- (۲) $-1+t$
- (۳) $(1+t)$
- (۴) $-(1+t)$

۱۳- در مدار زیر، R چقدر باشد تا یک ثانیه پس از باز شدن کلید K جریان عبوری از سلف ۱H برابر ۲A شود؟



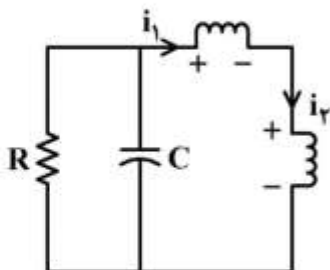
- (۱) $\ln 2$
- (۲) $\ln 4$
- (۳) $\ln 8$
- (۴) $\ln 6$

۱۴- مدار معادل شکل زیر از دو سر a و b کدام است؟



- (۱) یک منبع جریان ناپسته
- (۲) یک منبع ولتاژ ناپسته
- (۳) یک مقاومت
- (۴) یک منبع ولتاژ سری با یک مقاومت

۱۵- در مدار زیر، سلف های غیرخطی با مشخصه های $\phi_1 = -i_1^3$ و $\phi_2 = i_2^2 + i_2$ داده شده است. اگر $R = \frac{1}{4} \Omega$ ،

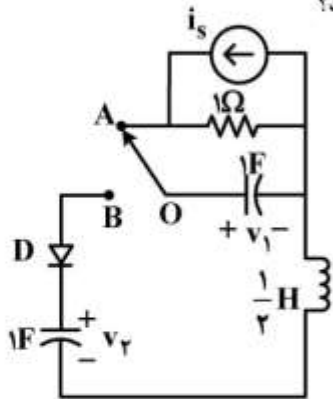


$0 < C < 1$ و i_1 پاسخ این مدار باشد، پاسخ این مدار چگونه است؟

- (۱) میرای ضعیف
- (۲) میرای شدید
- (۳) میرای بحرانی
- (۴) نوسانی

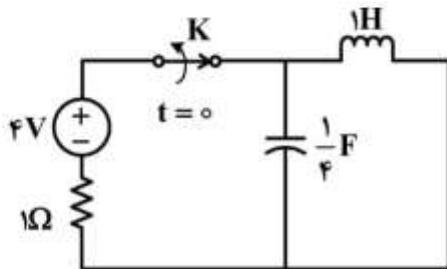
پیاچدی تست: نخستین وبسایت تخصصی آزمون دکتری

۱۶- در مدار زیر، $i_s = 2u(-t)$ و شرط اولیه $v_C(0^+) = 1$ ولت است. اگر در لحظه $t = 0$ کلید را از وضعیت OA به وضعیت OB بچرخانیم، مدت زمان هدایت دیود ایدئال D چند ثانیه خواهد بود؟



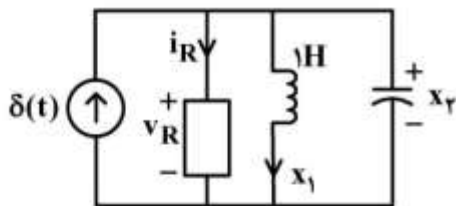
- (۱) $\frac{\pi}{4}$
- (۲) $\frac{\pi}{2}$
- (۳) $\frac{3\pi}{4}$
- (۴) π

۱۷- در مدار زیر کلید K مدت زمان زیادی بسته بوده است. آن را در لحظه $t = 0$ باز می‌کنیم. مسیر حالت برای $t > 0$ ، روی کدام معادله قرار دارد؟



- (۱) $4x_1^2 + 16x_2^2 = 1$
- (۲) $x_1^2 + 4x_2^2 = 16$
- (۳) $x_1^2 + 64x_2^2 = 16$
- (۴) $4x_1^2 + x_2^2 = 64$

۱۸- در مدار غیرخطی زیر، بار خازن $q = x_2^2$ ، جریان مقاومت غیرخطی $i_R = \frac{1}{v_R}$ و سلف 1H خطی است. معادلات



حالت این مدار کدام است؟

$$\begin{cases} \dot{x}_1 = x_2 \\ \dot{x}_2 = \frac{-1}{2x_2^2} - \frac{x_1}{2x_2} + \frac{\delta(t)}{2x_2} \end{cases} \quad (۱)$$

$$\begin{cases} \dot{x}_1 = x_2 \\ \dot{x}_2 = \frac{-1}{x_2^2} - \frac{x_1}{x_2} + \frac{\delta(t)}{x_2} \end{cases} \quad (۲)$$

$$\begin{cases} \dot{x}_1 = x_2 \\ \dot{x}_2 = \frac{1}{2x_2^2} - \frac{x_1}{2x_2} - \frac{\delta(t)}{2x_2} \end{cases} \quad (۳)$$

$$\begin{cases} \dot{x}_1 = x_2 \\ \dot{x}_2 = \frac{-1}{2x_2^2} + \frac{x_1}{2x_2} + \frac{\delta(t)}{2x_2} \end{cases} \quad (۴)$$

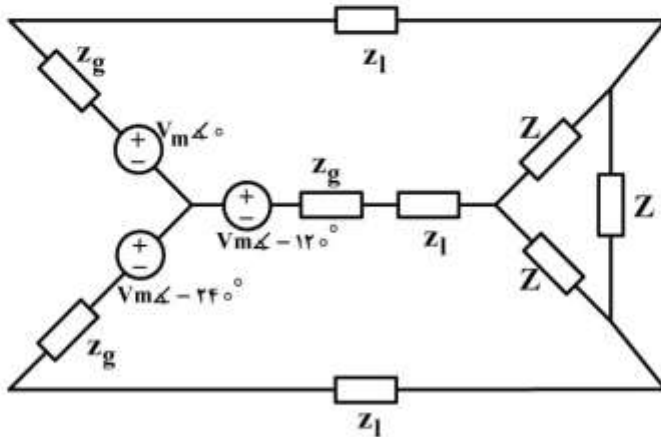
پیاچدی تست: نخستین وبسایت تخصصی آزمون دکتری

۱۹- در مدار زیر، Z چقدر باشد تا ماکزیمم توان دریافتی را داشته باشد؟

$$z_g = 0.2 + j0.5$$

$$z_1 = 0.8 + j0.1$$

$$Z = R + jX$$



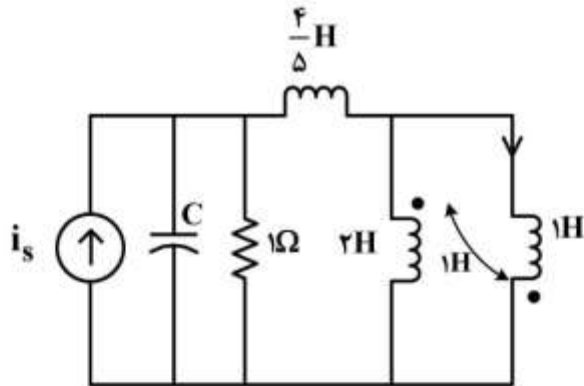
(۱) $Z = 0.6 - j$

(۲) $Z = 1 - j0.6$

(۳) $Z = 1.8 - j3$

(۴) $Z = 3 - j1.8$

۲۰- در مدار زیر با ورودی i_s ظرفیت خازن C چند فاراد باشد تا مدار فرکانس طبیعی مضاعف داشته باشد؟



(۱) ۱

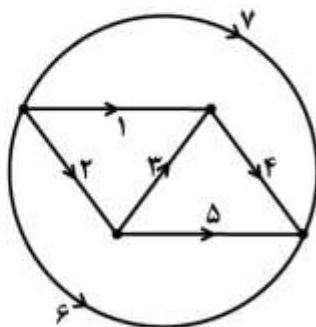
(۲) 1/2

(۳) 1/4

(۴) 1/8

۲۱- اگر حلقه‌های اساسی در یک گراف به صورت زیر باشد:

$$\{213, 435, 7135, 6135\}$$



درخت متناظر و کاتست‌های اساسی آن کدام‌اند؟

(۱) درخت ۱۳۵ و $\{5647, 32647, 1267\}$

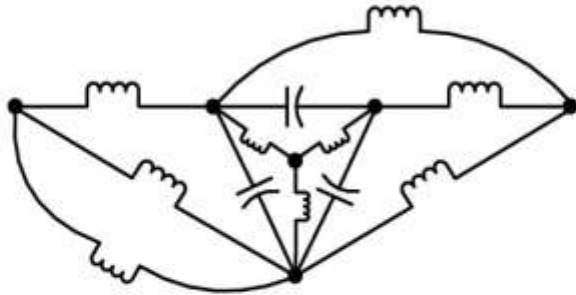
(۲) درخت ۲۳۴ و $\{5647, 32647, 1267\}$

(۳) درخت ۶۴۳ و $\{4521, 235, 6217\}$

(۴) درخت ۷۱۳ و $\{7456, 1245, 235\}$

پیاچدی تست: نخستین وبسایت تخصصی آزمون دکتری

۲۲- مرتبه مدار زیر و تعداد فرکانس‌های طبیعی ناصفر آن به ترتیب کدام است؟



- (۱) ۲ و ۸
- (۲) ۴ و ۸
- (۳) ۶ و ۸
- (۴) ۲ و ۱۰

۲۳- در مدار زیر تابع تبدیل $H(s) = \frac{I_o}{I_s} = \frac{2s}{s^2 + 2s + 3}$ است. اگر به جای هر یک از دو سلف، یک خازن $1F$ قرار

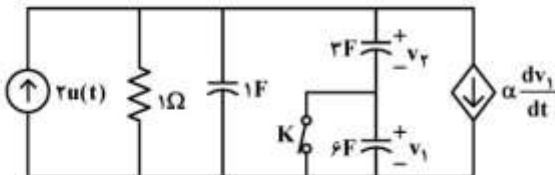
داده شود، به ازای $i_s = \cos t$ ولتاژ v_o در مدار جدید چقدر است؟



- (۱) $\sqrt{2} \cos(t - 135^\circ)$
- (۲) $\sqrt{2} \cos(t + 135^\circ)$
- (۳) $\frac{1}{\sqrt{2}} \cos(t + 135^\circ)$
- (۴) $\frac{1}{\sqrt{2}} \cos(t - 135^\circ)$

۲۴- شرایط اولیه در مدار زیر همگی صفر و کلید K بسته است. اگر کلید را برای $t > 0$ باز کنیم، به ازای کدام مقدار α ثابت زمانی مدار برای زمان‌های بعد از باز شدن کلید همانند ثابت زمانی مدار قبل از باز شدن کلید باقی خواهد

ماند؟

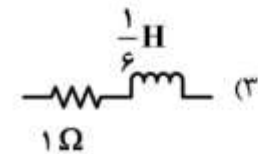
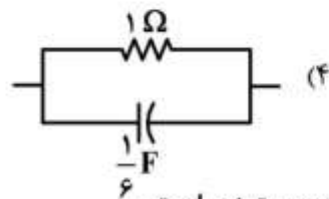
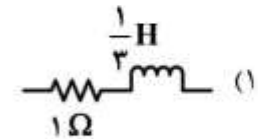
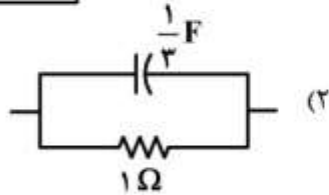
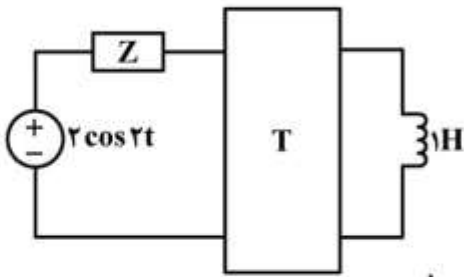


- (۱) ۶
- (۲) ۳
- (۳) -۳
- (۴) -۶

پیاچدی تست: نخستین وبسایت تخصصی آزمون دکتری

۲۵- در مدار زیر، شبکه دوقطبی با ماتریس $T = \begin{bmatrix} 3 & 2 \\ 1 & 2s \end{bmatrix}$ توصیف شده است. امپدانس Z چقدر می تواند باشد تا

ماکزیمم توان به دوقطبی تحویل داده شود؟



۲۶- تبدیل Z سیگنال گسسته $x[n]$ روی دایره $z = re^{j\omega}$ به صورت زیر است:

$$X(re^{j\omega}) = \frac{1}{1 - \frac{1}{r}e^{-j\omega}}$$

سیگنال $x[n]$ ، کدام است؟

(۱) $x[n] = 6^n u[n]$

(۲) $x[n] = (\frac{2}{3})^n u[n]$

(۳) $x[n] = (\frac{1}{3})^n u[n]$

(۴) $x[n] = (\frac{1}{6})^n u[n]$

۲۷- تبدیل فوریه سیگنال زمان گسسته $x[n] = \left[\left(\frac{1}{3}\right)^n \cos\left(\frac{\pi n}{3}\right) \right] u[n]$ ، برابر کدام است؟

(۱) $\frac{1}{1 + \frac{1}{4}e^{-j\omega}}$

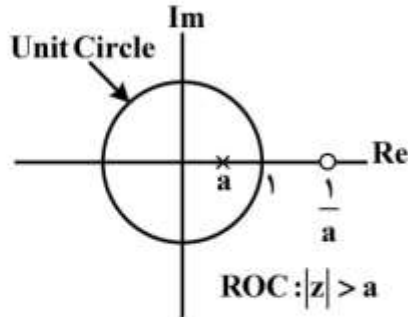
(۲) $\frac{1}{1 + je^{-j\omega}}$

(۳) $\sum_{k=-\infty}^{\infty} \frac{1}{1 - j(-1)^k e^{-j\omega}}$

(۴) $\sum_{k=-\infty}^{\infty} \frac{1}{2 - j(-1)^k e^{-j\omega}}$

پیاچدی تست: نخستین وبسایت تخصصی آزمون دکتری

۲۸- نمایش موقعیت صفر و قطب یک سیستم زمان گسسته به صورت شکل زیر است. این سیستم بیانگر چه نوع فیلتری است؟



- (۱) فیلتر پایین گذر
- (۲) فیلتر میان گذر
- (۳) فیلتر بالاگذر
- (۴) فیلتر تمام گذر

۲۹- اگر برای k عدد صحیح و مثبت، سیگنال $x_{(k)}[n]$ با اضافه کردن $k-1$ صفر مابین هر دو مقدار متوالی $x[n]$ به دست آید، به ازای چه مقدار θ در فاصله $(0, 2\pi)$ رابطه زیر برقرار است؟

$$X_{(r)}(e^{j\omega}) = X_{(r)}(e^{j(\omega-\theta)})$$

- (۱) $\frac{\pi}{3}$
- (۲) $\frac{2\pi}{3}$
- (۳) π
- (۴) $\frac{4\pi}{3}$

۳۰- یک سیستم LTI با انرژی پاسخ ضربه E_H را در نظر می گیریم. کدام گزینه در مورد این سیستم نادرست است؟

- (۱) اگر $E_H < \infty$ باشد، سیستم پایدار است.
- (۲) اگر $E_H = \infty$ باشد، سیستم ناپایدار است.
- (۳) اگر سیستم پایدار باشد، E_H کراندار است ($E_H < \infty$)
- (۴) گزینه های ۲ و ۳

۳۱- سیستم های توصیف شده با رابطه های ورودی - خروجی زیر را در نظر بگیرید:

$$S_1 : y[n] = \begin{cases} x\left[\frac{n}{5}\right], & n = 0, \pm 5, \pm 10, \pm 15, \dots \\ 0, & \text{سایر جاها} \end{cases}$$

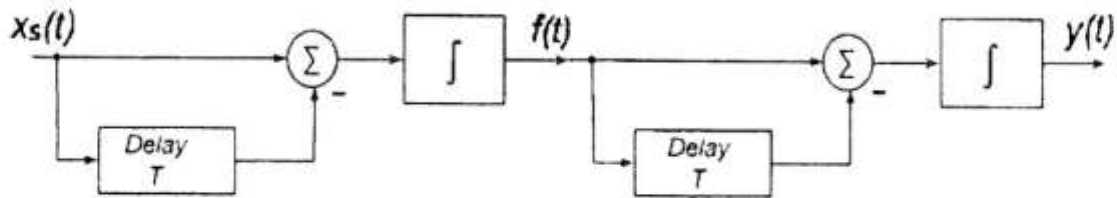
$$S_2 : y[n] = x[5n], \quad \forall n$$

کدام گزینه درست است؟

- (۱) S_1 وارون پذیر و تغییرناپذیر با زمان
- (۲) S_1 و S_2 وارون پذیر و تغییرپذیر با زمان
- (۳) S_2 وارون ناپذیر، S_1 و S_2 تغییرپذیر با زمان
- (۴) S_1 و S_2 وارون ناپذیر و تغییرپذیر با زمان

پیاچدی تست: نخستین وبسایت تخصصی آزمون دکتری

۳۲- پاسخ ضربه سیستم نشان داده شده در شکل زیر کدام است؟



(۱) $h(t) = tu(t) - (t - 2T)u(t - 2T)$

(۲) $h(t) = u(t) - 2u(t - T) + u(t - 2T)$

(۳) $h(t) = tu(t) - 2tu(t - T) + tu(t - 2T)$

(۴) $h(t) = tu(t) - 2(t - T)u(t - T) + (t - 2T)u(t - 2T)$

۳۳- کدام گزینه درباره یک سیستم LTI صحیح است؟

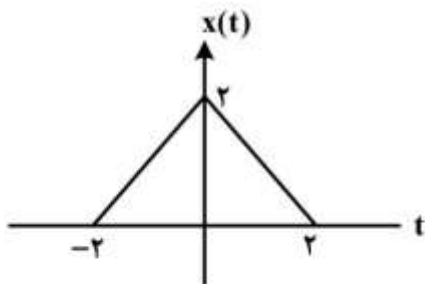
- (۱) وارون یک سیستم علی همیشه یک سیستم علی است.
- (۲) ترکیب سری یک سیستم غیرعلی، با یک سیستم علی، ضرورتاً یک سیستم غیرعلی است.
- (۳) یک سیستم زمان پیوسته پایدار است، اگر و تنها اگر پاسخ پله آن مطلقاً انتگرال پذیر باشد.
- (۴) یک سیستم زمان گسسته علی است، اگر و تنها اگر پاسخ به ورودی پله واحد آن به ازای $\pi < 0$ برابر صفر باشد.

۳۴- کدام گزینه در مورد سیستم با توصیف ورودی - خروجی $y(t) = (t - 1)x(\cos(t))$ صادق است؟

- (۱) تغییرناپذیر با زمان، پایدار، بدون حافظه
- (۲) تغییرپذیر با زمان، ناپایدار، غیرعلی
- (۳) تغییرپذیر با زمان، پایدار، حافظه دار
- (۴) تغییرناپذیر با زمان، ناپایدار، بدون حافظه

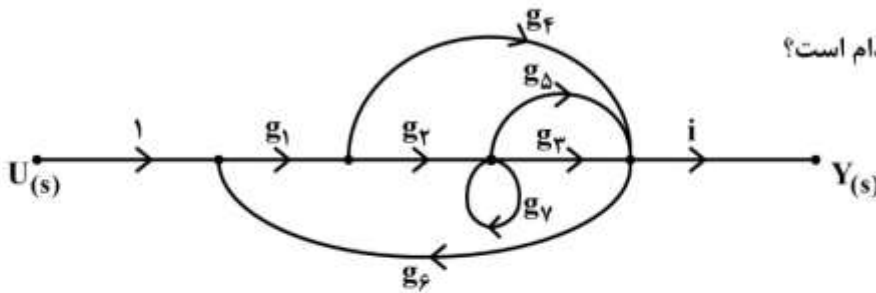
۳۵- اگر $X(j\omega)$ تبدیل فوری سیگنال $x(t)$ باشد، حاصل انتگرال زیر کدام است؟

$$I = \int_{-\infty}^{\infty} \frac{X(j\omega) \sin(\omega)}{\omega} e^{j\omega} d\omega$$



- (۱) 0
- (۲) π
- (۳) 2π
- (۴) 4π

پیاچدی تست: نخستین وبسایت تخصصی آزمون دکتری



۳۶- تابع انتقال $T(s) = \frac{Y(s)}{U(s)}$ ، کدام است؟

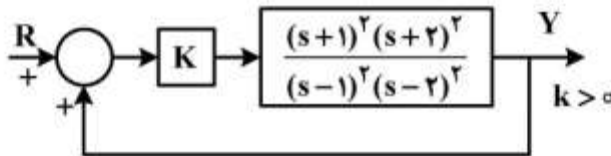
$$T(s) = \frac{g_1 g_2 g_3 + g_1 g_4 (1 - g_5) + g_1 g_2 g_6}{1 - g_5 - g_1 g_2 g_3 g_4 - g_1 g_2 g_6 - g_1 g_2 g_5 g_4 + g_5 g_1 g_2 g_4} \quad (1)$$

$$T(s) = \frac{g_1 g_2 g_3 + g_1 g_4 + g_1 g_2 g_6}{1 - g_5 - g_1 g_2 g_3 g_4 - g_1 g_2 g_6 - g_1 g_2 g_5 g_4 + g_5 g_1 g_2 g_4} \quad (2)$$

$$T(s) = \frac{g_1 g_2 g_3 + g_1 g_4 (1 - g_5) + g_1 g_2 g_6 + g_1 g_2 g_5 g_4}{1 - g_5 - g_1 g_2 g_3 g_4 - g_1 g_2 g_6 - g_1 g_2 g_5 g_4} \quad (3)$$

$$T(s) = \frac{g_1 g_2 g_3 + g_1 g_2 g_5 g_4 + g_1 g_2 g_6 + g_1 g_4}{1 - g_5 - g_1 g_2 g_3 g_4 - g_1 g_2 g_6 - g_1 g_2 g_5 g_4 + g_5 g_1 g_2 g_4} \quad (4)$$

۳۷- سیستم زیر را در نظر بگیرید:



مکان در چند نقطه با محور موهومی تلاقی دارد و چند ریشه از سیستم همواره حقیقی است؟

- (۱) در ۲ نقطه با محور موهومی تلاقی و همواره دو ریشه حقیقی دارد.
- (۲) در ۳ نقطه با محور موهومی تلاقی و همواره دو ریشه حقیقی دارد.
- (۳) در ۴ نقطه با محور موهومی تلاقی و همواره یک ریشه حقیقی دارد.
- (۴) در ۴ نقطه با محور موهومی تلاقی دارد و ریشه حقیقی ندارد.

۳۸- یک سیستم کنترل با $G(s) = \frac{k}{(s+a)^3}$ ($k > 0, a > 0$) و فیدبک واحد منفی دارای حد بهره‌ای به اندازه

$G.M. = 12 \text{ db}$ است. خطای دائمی این سیستم در پاسخ به ورودی پله واحد کدام است؟ ($\log_{10} 2 = 0.3$)

$\frac{1}{3}$ (۱)

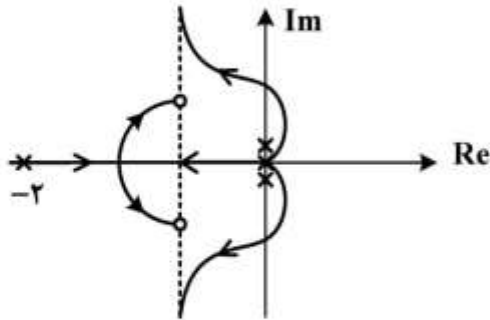
$\frac{1}{2}$ (۲)

۲ (۳)

۳ (۴)

پیاچدی تست: نخستین وبسایت تخصصی آزمون دکتری

۳۹- مکان هندسی ریشه‌های سیستم حلقه بسته سیستمی به صورت زیر است. اگر این سیستم برای $k > 2$ پایدار باشد، محل صفرهای سیستم حلقه باز و تقاطع مکان با محور موهومی کدام است؟



(۱) $z^2, -\frac{3}{2} \pm j\frac{1}{2}$

(۲) $z^2, -\frac{3}{2} \pm j2$

(۳) $z, -\frac{1}{2} \pm j\frac{1}{2}$

(۴) $z, -\frac{1}{2} \pm j2$

۴۰- یک سیستم کنترل با فیدبک واحد منفی دارای تابع تبدیل مسیر پیشرویی با بهره $k = 0.3$ ، بدون صفر و حداقل تعداد قطب است و تمام قطب‌های آن حقیقی و نامثبت‌اند. اگر بدانیم حداقل خطای مانای این سیستم در

پاسخ به ورودی شیب واحد $\frac{1}{s}$ و تقاطع مکان هندسی با محور موهومی در $\omega = \sqrt{5} \frac{\text{rad}}{s}$ باشد، حد بهره سیستم

حلقه بسته چند db است؟

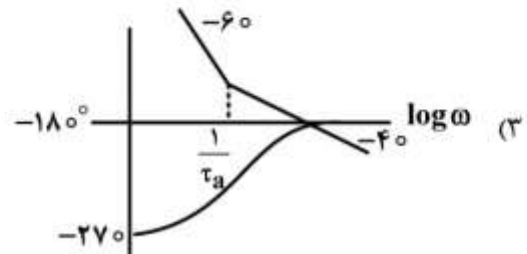
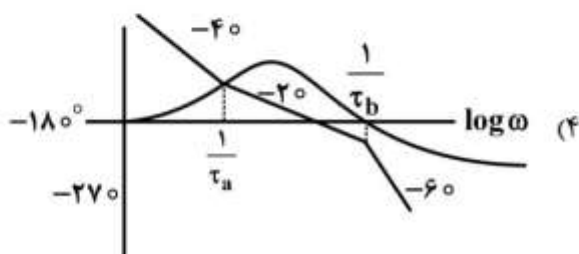
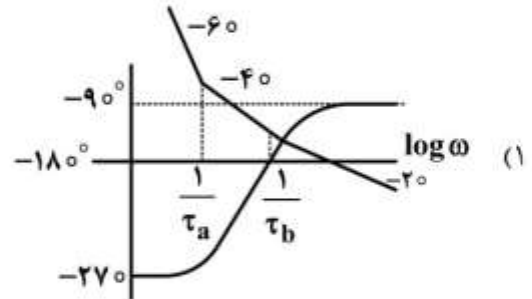
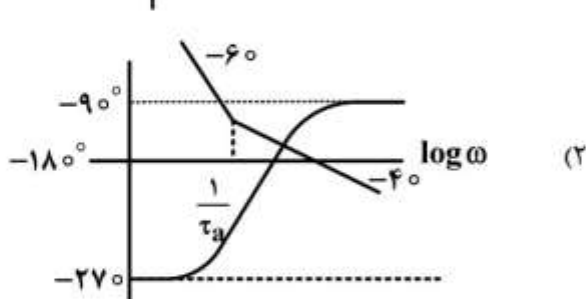
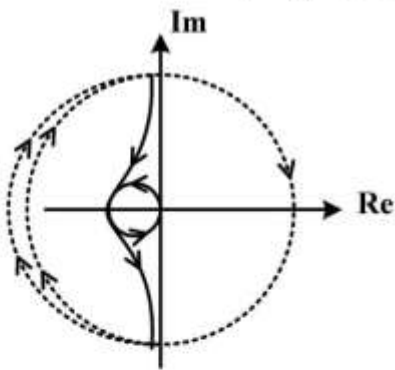
(۱) ۱۰

(۲) ۲۰

(۳) ۳۰

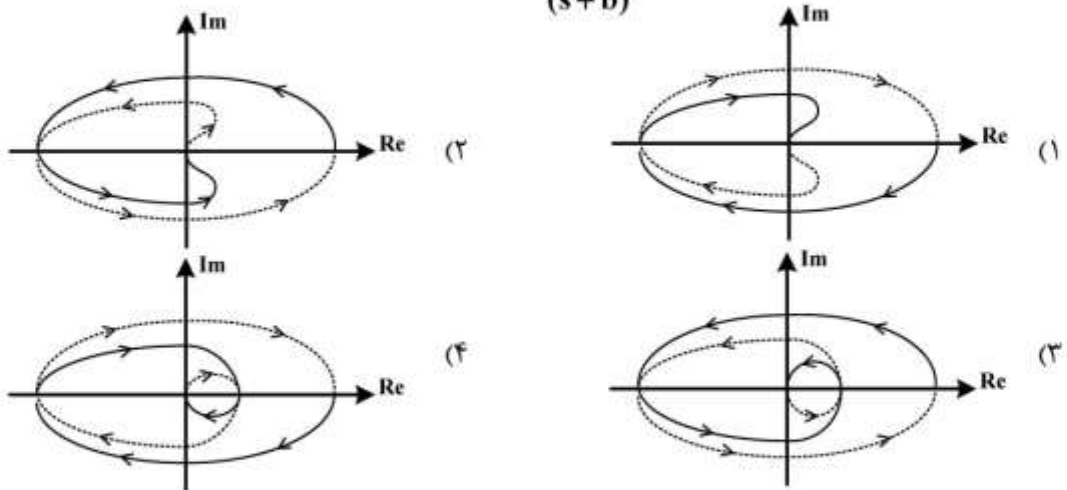
(۴) ۴۰

۴۱- نمودار نایکویست یک سیستم مینیمم فاز به صورت زیر است. نمودار بود مربوط به آن کدام است؟

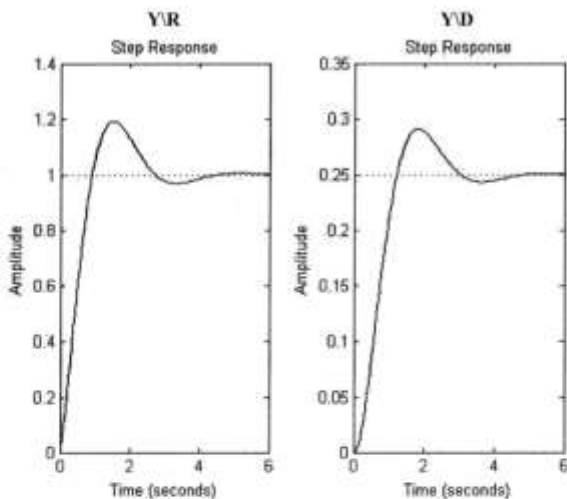
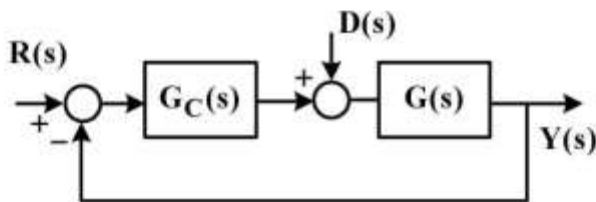


پیاچدی تست: نخستین وبسایت تخصصی آزمون دکتری

۴۲- کدام گزینه نمودار نایکوئیست سیستمی با $G(s) = k \frac{(s-a)^2}{(s+b)^2}$ ($k > 0, a > 0, b > 0$) و فیدبک واحد منفی است؟

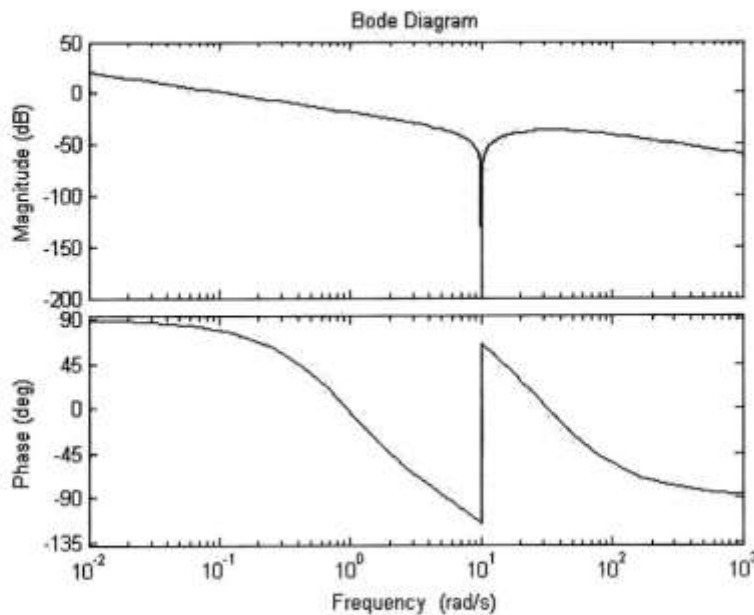


۴۳- سیستم زیر را در نظر بگیرید. پاسخ سیستم به ورودی پله واحد $R(s)$ و $D(s)$ به صورت مجزا در شکل زیر نشان داده شده است. کدام گزینه در مورد تابع تبدیل حلقه بسته از $R(s)$ به $Y(s)$ درست است؟



- (۱) $\frac{4}{s^2 + 2s + 4}$
- (۲) $\frac{s + 4}{s^2 + 2s + 4}$
- (۳) $\frac{(s+1)(s+4)}{s^2 + 2s + 4}$
- (۴) $\frac{s+1}{s^2 + s + 1}$

۴۴- دیاگرام بودی زیر متعلق به کدام تابع تبدیل است؟



$$G(s) = \frac{(s-1)(s+30)^2}{s(s^2+10)(s+1)} \quad (1)$$

$$G(s) = \frac{(1-s)(s^2+10)}{s^2(s+30)} \quad (2)$$

$$G(s) = \frac{(s-1)(s^2+10)}{s(s+1)(s+30)^2} \quad (3)$$

$$G(s) = \frac{(1-s^2)(s+30)^2}{s^2(s^2+10)} \quad (4)$$

۴۵- پاسخ فرکانسی تابع تبدیل مسیر پیشروی یک سیستم حلقه بسته با فیدبک واحد منفی به ازای $kv = 0.1$ در جدول زیر داده شده است. ساده‌ترین جبران‌ساز برای پایداری سیستم حلقه بسته و تأمین مشخصات مطلوب زیر کدام است؟

(I) حداقل نسبت میرایی $\eta = 0.5$

(II) ثابت خطای سرعت $kv = 20$

ω	Mag	Phase	ω	Mag	Phase
0.1000	0.1000	-90.2865	3.7927	0.0030	-102.4891
0.1438	0.0695	-90.4122	5.4556	0.0024	-111.2248
0.2069	0.0483	-90.5930	7.8476	0.0023	-135.6071
0.2976	0.0336	-90.8534	11.2884	0.0014	-205.9171
0.4281	0.0234	-91.2286	16.2378	0.0003	-243.6155
0.6158	0.0163	-91.7704	23.3572	0.0001	-255.3125
0.8859	0.0114	-92.5562	33.5982	0.0000	-260.7265
1.2743	0.0080	-93.7056	48.3293	0.0000	-263.8312
1.8330	0.0056	-95.4175	69.5193	0.0000	-265.7996
2.6367	0.0040	-98.0641	100.0000	0.0000	-267.1087

(۱) Lag

(۲) Lead

(۳) Lead-Lead

(۴) تناسبی