


کد کنترل

239

E



239E

دفترچه شماره (1)

صبح جمعه

۹۸/۱۲/۹



«اگر دانشگاه اصلاح شود مملکت اصلاح می‌شود.»
امام خمینی (ره)

جمهوری اسلامی ایران
وزارت علوم، تحقیقات و فناوری
سازمان سنجش آموزش کشور

آزمون ورودی دوره دکتری (نیمه متمرکز) - سال ۱۳۹۹

رشته زبان شناسی - کد (۲۸۰۸)

مدت پاسخ‌گویی: ۱۲۰ دقیقه

تعداد سؤال: ۹۰

عنوان مواد امتحانی، تعداد و شماره سؤالات

ردیف	مواد امتحانی	تعداد سؤال	از شماره	تا شماره
۱	مجموعه دروس تخصصی: کلیات زبان شناسی - دروس پایه زبان شناسی (آواشناسی و واج شناسی - صرف - نحو - معناشناسی - مکاتب زبان شناسی - تجزیه و تحلیل کلام) - مسایل میان رشته‌ای زبان شناسی (جامعه‌شناسی زبان - روان‌شناسی زبان - زبان‌شناسی رایانشی)	۹۰	۱	۹۰

این آزمون نمره منفی دارد.

استفاده از ماشین حساب مجاز نیست.

حق چاپ، تکثیر و انتشار سؤالات به هر روش (الکترونیکی و...) پس از برگزاری آزمون، برای تمامی اشخاص حقیقی و حقوقی تنها با مجوز این سازمان مجاز می‌باشد و یا متخلفین برابر مقررات رفتار می‌شود.

۱۳۹۹

* داوطلب گرامی، عدم درج مشخصات و امضا در مندرجات جدول ذیل، به منزله عدم حضور شما در جلسه آزمون است.

اینجانب با شماره داوطلبی با آگاهی کامل، یکسان بودن شماره صندلی خود را با شماره داوطلبی مندرج در بالای کارت ورود به جلسه، بالای پاسخ‌نامه و دفترچه سؤالات، نوع و کد کنترل درج شده بر روی دفترچه سؤالات و پائین پاسخ‌نامه‌ام را تأیید می‌نمایم.

امضا:

- ۱- در کدام گزینه، همه واژه‌ها دارای مشخصه «نرم» (Lax) هستند؟

(۱) ε, a, o, ɔ	(۲) a, i, o, e
(۳) o, ɔ, e, ə	(۴) a, u, i, a
- ۲- در تلفظ کدام جفت‌واژه فرایند تولید ناقص روی می‌دهد؟

(۱) سطر، گرم	(۲) دگان، خط‌دار
(۳) کبک، دارو	(۴) توپ، تیر
- ۳- کدام گروه از صداهای زیر همگی سایشی هستند؟

(۱) s, v, x, h	(۲) c, j, ɲ, θ
(۳) s, z, dʒ, tʃ	(۴) l, r, ʃ, ʒ
- ۴- کدام یک از گزینه‌ها یک مجموعه کمینه است؟

(۱) [بید، قید، صید]	(۲) [بید، باد، بد]
(۳) [قید، غیب، عیب]	(۴) [گفتار، گفتار، رفتار]
- ۵- در تلفظ کدام گزینه فرایند «حذف» به کار می‌رود؟

(۱) کارمند	(۲) خوش‌بین
(۳) بردبار	(۴) دستگیره
- ۶- در کدام کلمه فرایند «کوتاه‌شدگی واکه» دیده می‌شود؟

(۱) ماهتاب ← مهتاب	(۲) دامن ← دامان
(۳) دندان ← دندون	(۴) روحانیون ← روحانیان
- ۷- در تلفظ کدام گزینه فرایند واجی درج به کار می‌رود؟

(۱) نامدار	(۲) کردگار
(۳) دستگاه	(۴) پیش‌بند
- ۸- در خوشه همخوانی پایان کدام کلمه «اصل توالی رسایی» (Sonority Sequencing Principle) رعایت شده است؟

(۱) قفل	(۲) غمر
(۳) مرد	(۴) فکر
- ۹- کدام یک از تغییرات آوایی، منطبق بر قانون گریم است؟

(۱) b ^h → b	(۲) d → d ^h
(۳) f → p	(۴) x → k
- ۱۰- در جمله «کتاب روی میز است»، از لحاظ معناشناختی، کدام کلمه بیشترین سهم را در بیان معنایی جمله به عهده دارد؟

(۱) کتاب	(۲) روی
(۳) میز	(۴) است
- ۱۱- نقش معنایی کلمات «محسن، نامه، استاد» در جمله «محسن از ارسال نامه به استاد خرسند است» به ترتیب کدام است؟

(۱) کنشگر، تجربه‌گر، کنش‌پذیر	(۲) کنشگر، تجربه‌گر، هدف
(۳) تجربه‌گر، کنش‌پذیر، کنشگر	(۴) تجربه‌گر، کنش‌پذیر، هدف

- ۱۲- کدام گزینه شمول معنایی میان دو واژه را نشان می‌دهد؟
 (۱) زیپ - شلوار
 (۲) دست - لباس
 (۳) شلوار - لباس
 (۴) دکمه - پیراهن
- ۱۳- در جمله زیر، چند فعل با مشخصه صرفی نحوی [+Pres] تولید شده است؟
 «ممکن است باز هم اصرار کرده باشد که وقتی همه بروند، او نیز با آنها خواهد رفت.»
 (۱) یک (۲) دو (۳) سه (۴) چهار
- ۱۴- در چارچوب نظریه واژه‌گرای ترتیب سطوح (Level Ordering Hypothesis) در کدام گزینه، فرایندهای ساخت‌واژی هر سه سطح رخ داده است؟
 (۱) علوم‌سیاسی‌ها
 (۲) اصول‌گرایی‌اش
 (۳) کفش سفید قدیمی‌ترش
 (۴) تماشاگرنماها
- ۱۵- به‌کار بردن واژه «آز» به‌جای واژه «آزمایشگاه» نمایان‌گر کدام فرایند واژه‌سازی است؟
 (۱) ابداع (Coinage)
 (۲) کوتاه‌سازی (Shortening)
 (۳) تریخیم (Truncation)
 (۴) تکرار ناقص (Partial Reduplication)
- ۱۶- در کدام نمونه‌ها، فعل جمله اصلی بر جمله‌واره‌های وابسته، حاکمیت تتایی (Theta govern) دارد؟

۱- I Thought [John a great friend]

۲- John decided [to see the movie]

۳- John arrived [totally exhausted]

۴- John came [to see the movie]

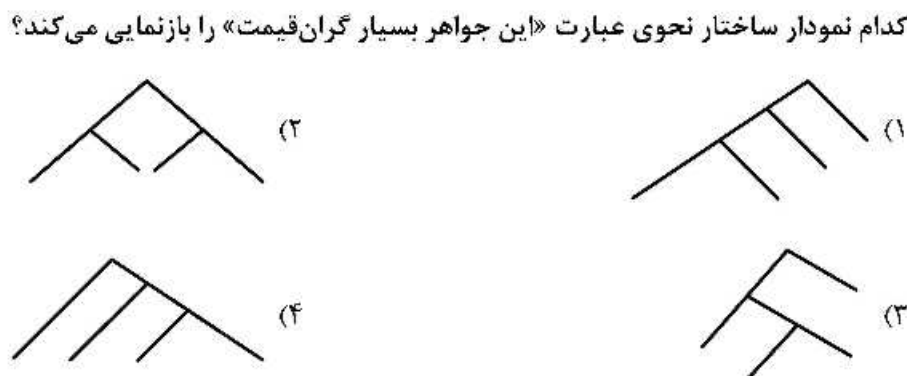
(۴) ۳ و ۴

(۳) ۲ و ۴

(۲) ۱ و ۳

(۱) ۱ و ۲

- ۱۷- در کدام جمله اسنادی‌سازی از جایگاه غیرموضوع صورت گرفته است؟
 (۱) ماه گذشته بود که والدینم آپارتمان را به علی اجاره دادند.
 (۲) به علی بود که ماه گذشته والدینم آپارتمان را اجاره دادند.
 (۳) این آپارتمان بود که ماه گذشته والدینم به علی اجاره دادند.
 (۴) والدینم بودند که ماه گذشته آپارتمان را به علی اجاره دادند.
- ۱۸- با توجه به این‌که شخص و شمار یک مشخصه دستوری محسوب می‌شوند، در کدام گزینه واژه آمیخته (Portmanteau Morph) وجود دارد؟
 (۱) نمی‌خورند
 (۲) می‌خورانند
 (۳) نمی‌خوردند
 (۴) می‌خورده‌اند



- ۲۰- عبارت زیر معرف کدام جهانی زبانی است؟
 «اگر زبانی دارای آرایش واژگانی VSO باشد، آن زبان پیش اضافه‌ای است.»
 (۱) صرفی (۲) کاربردشناختی (۳) تلویحی (۴) دستوری
- ۲۱- کدام مکتب «معنا را مقید به بافت و کاربرد» قلمداد می‌کند؟
 (۱) پراگ (۲) لندن (۳) زایشی (۴) کپنهاگ
- ۲۲- رده‌های زبان‌شناسی پیکره‌ای را در کدام یک از نحله‌های زبان‌شناسی می‌توان یافت؟
 (۱) رده‌شناسی (۲) ساخت‌گرایی (۳) نقش‌گرایی (۴) صورت‌گرایی
- ۲۳- در کاریکلماتور زیر کدام یک از اصول گرایس نقض شده است؟
 «برای هم‌رنگ شدن با جماعت همه را رنگ کرد.»
 (۱) ربط (۲) کمیت (۳) کیفیت (۴) شیوه
- ۲۴- کدام گزینه معرف یک Diectic Expression است؟
 (۱) آن احمق‌ها (۲) احمق‌های جوان (۳) این احمق‌بازی‌ها (۴) یک کار احمقانه
- ۲۵- «بی‌ادبی سیاسی» به‌عنوان یکی از حوزه‌های جدید پژوهشی در کدام یک از رویکردهای تحلیل گفتمان قابل بررسی است؟
 (۱) تعاملی (۲) ساخت‌گرا (۳) نقش‌گرا (۴) شناختی
- ۲۶- آواهای {b, d, g} با کدام «آغازش» (Initiation) تولید می‌شوند؟
 (۱) نرم‌کامی (Velaric) (۲) ششی (Pulmonic) (۳) چاکنایی برون‌سو (Egressive Glottal) (۴) چاکنایی درون‌سو (Ingressive Glottal)
- ۲۷- زمان آغاز واک (VOT) در کدام کلمه بیشتر است؟
 (۱) pin (۲) spin (۳) bin (۴) scope
- ۲۸- در مورد «سازه» (formant) اول واژه‌ها، کدام گزینه درست است؟
 (۱) پسین بودن واژه با مقدار سازه نسبت عکس دارد. (۲) ارتفاع واژه با مقدار سازه نسبت مستقیم دارد. (۳) ارتفاع واژه با مقدار سازه نسبت عکس دارد. (۴) گرد بودن واژه با مقدار سازه نسبت عکس دارد.
- ۲۹- همخوان دوم در کدام واژه «سخت‌کامی» تولید می‌شود؟
 (۱) سگان (۲) سگه (۳) سگو (۴) چگش
- ۳۰- کدام گزینه یک همخوان صغیری (sibilant) را نشان می‌دهد؟
 (۱) همخوان سایشی لثوی بی‌واک (۲) همخوان سایشی لبی دندانی واکنار (۳) همخوان سایشی ملازی بی‌واک (۴) همخوان سایشی میان‌دندانی واکنار
- ۳۱- کدام فرایند در زبان فارسی با قالب قاعده گشتاری (Transformational rule format) صورت‌بندی می‌شود؟
 (۱) کشش جبرانی (Compensatory Lengthening) (۲) هماهنگی واژه‌ای (Vowel Harmony) (۳) واگرفتگی پایانی (Final Devoicing) (۴) همگونی جایگاه تولید خیشومی (Nasal Place Assimilation)

۳۲- بین قاعده «خیشومی شدگی واکه پیش از همخوان خیشومی» و قاعده «حذف همخوان خیشومی از جایگاه پس از واکه» چه نوع تعاملی (Interaction) وجود دارد؟

(۱) زمینه‌افزایی (Feeding) (۲) زمینه‌کاهی (Bleeding)

(۳) عکس زمینه‌افزایی (Counter Feeding) (۴) عکس زمینه‌کاهی (Counter Bleeding)

۳۳- به لحاظ مختصه‌های طبقه اصلی (Major Category Features)، کدام گروه یک طبقه طبیعی (Natural Class) محسوب می‌شود؟

(۱) p, b, s, m (۲) r, l, n, j

(۳) c, r, l, n (۴) w, u, o, v

۳۴- تلفظ واژه «باران» /baran/ به صورت «بارون» [barun] شامل کدام فرایند واجی می‌شود؟

(۱) همگونی (Assimilation) (۲) ارتقاء واکه (Vowel Raising)

(۳) افتادگی واکه (Vowel Lowering) (۴) خیشومی شدگی (Nazalization)

۳۵- مشخصه «پیوسته» (Continuant) کدام یک از گروه‌های زیر را از یکدیگر تفکیک می‌کند؟

(۱) همخوان‌های گرفته (Obstruent) را از همخوان‌های رسا (Sonorant)

(۲) همخوان‌های سایشی (Fricative) و انسایشی (Affricate) را از ناسوده (Approximant)

(۳) همخوان‌های انفجاری (Plosive)، انسایشی (Affricate) و خیشومی (Nasal) را از سایر آواها

(۴) همخوان‌ها را از واکه‌ها

۳۶- در زبان سانسکریت چهار زمان صرفی حال، گذشته، آینده و شرطی وجود دارد که با دو مشخصه دو ارزشی ±الف و ±ب به ترتیب زیر می‌توان آن‌ها را توصیف کرد.

مشخصه	گذشته	حال	آینده	شرطی
[الف]	←	+	-	+
[ب]	←	-	-	+

دو مشخصه که چهار زمان یادشده را از هم متمایز می‌کنند، کدام‌اند؟

(۱) [گذشته] [آینده]

(۲) [گذشته] [حال]

(۳) [حال] [آینده]

(۴) [حال] [شرطی]

۳۷- در دو جمله زیر، ساختار موضوعی «جوان پسند» به ترتیب، با ساختار موضوعی کدام واژه‌های مرکب همسان است؟

الف - «لحن پدربزرگش جوان پسند است و همیشه بچه‌های محله را پای صحبت‌هایش می‌خکوب می‌کند.»

ب - «طبع پدربزرگش جوان پسند است و بعد از فوت همسرش با خانم جوانی ازدواج کرد.»

(۱) خودپسند - دل پسند

(۲) دل پسند - خودپسند

(۳) آسان پسند - خداپسند

(۴) خداپسند - آسان پسند

۳۸- در کدام فعل‌های زیر، به ترتیب، نمونه‌ای از نمود تهی (Empty Exponence) و نمود صفر (Zero Exponence) دیده می‌شود؟

«سرمری مشتش را با خشم بر نیمکت کوباند، اما کمک‌مربی‌ها عصبانیتش را فرو نشانند»

(۱) کوباند - کوباند

(۲) فرو نشانند - کوباند

(۳) کوباند - فرو نشانند

(۴) فرو نشانند - فرو نشانند

- ۳۹- در جمله زیر، چه عاملی مانع از تولید اسم مصدر «*فروشش» شده است؟
 «امسال در نمایشگاه بین‌المللی کتاب تهران، کتاب‌های زبان‌شناسی *فروشش خوبی داشتند.»
 (۱) محدودیت صرفی نحوی (Morphosyntactic Restriction)
 (۲) محدودیت آوایی (Phonetic Restriction)
 (۳) خلأ اتفاقی (Accidental Gap)
 (۴) اصل بازداری (Blocking)
- ۴۰- در کدام جمله، پدیده هم‌تصریفی (Syncretism) در مشخصه حالت، باعث ایجاد ابهام شده است؟
 (۱) نماندنش بی دلیل بود.
 (۲) بدموقع می‌خرید.
 (۳) خریدش بدموقع بود.
 (۴) بی دلیل نمی‌ماند.
- ۴۱- ریشه‌های افعال جمله مرکب «گفتم نمی‌روم» در مجموع چند تکواژگونه (Allomorph) و گونه آزاد (Free Variation) گفتاری دارند؟
 (۱) پنج (۲) شش (۳) هفت (۴) هشت
- ۴۲- طبق اصل چهارم ناپدا: «یک تکواژ می‌تواند دارای تکواژگونه صفر باشد، مشروط بر این‌که دارای تکواژگونه غیرصفر نیز باشد.»
 براساس این اصل، در کدام جمله تکواژهای آشکار و پنهان بیشتری وجود دارد؟
 (۱) شیشه‌ها را شکسته بود.
 (۲) آن شیشه‌ها شکسته‌اند.
 (۳) شیشه‌ها را شکانده است.
 (۴) آن شیشه‌ها شکسته بودند.
- ۴۳- ریشه‌های «ساز، فرما، نویس» به ترتیب دارای تکواژگونه‌های /saz, sax/, /farma, farmu/, /nevis, neveš/ هستند که در زیر برخی از کاربردهای آن‌ها را ملاحظه می‌کنید:
 می‌سازم، سازه، سازگار، نساز، سازمان، فرمایش، می‌فرماید، نویسنده، نویسه، می‌نویسد
 می‌ساختم، ساخته، ساختار، نساخت، ساختمان، فرمودن، می‌فرمود، نوشته، نوشتار، می‌نوشت
 با توجه به داده‌های بالا، کدام حوزه دستور بر توزیع گونه‌های ریشه‌های یادشده نظارت می‌کند؟
 (۱) نحوی (۲) معنایی (۳) صرفی (۴) آوایی
- ۴۴- غیردستوری بودن جمله زیر معلول عبور از چه نوع جزیره‌ای است؟
 «*سنگی که پسری که به سمت مدیر پرتاب کرد را می‌شناسم در دفتر مدرسه است.»
 (۱) جزیره گروه اسمی مرکب
 (۲) جزیره پرسش‌واژه
 (۳) جزیره ساختار هم‌پایه
 (۴) جزیره شاخه سمت چپ
- ۴۵- در چارچوب نظریه حاکمیت و مرجع‌گزینی، کدام گزینه دلیل نادرستی بودن بازنمایی زیر را توضیح می‌دهد؟
 “* John wondered [CP whether [IP PRO_j to invite PRO_k]].”
 (۱) حضور whether در جایگاه شاخص CP
 (۲) حضور whether در جایگاه هسته CP
 (۳) حضور PRO_j در جایگاه فاعل بند ناخودایستا
 (۴) حضور PRO_k در جایگاه مفعول بند ناخودایستا
- ۴۶- در مراحل اشتقاق نحوی کدام جمله، زنجیره‌های موضوع (A-Chain) بیشتری شکل می‌گیرند؟
 1) He was believed to have written this story.
 2) They say he seems to have written this story.
 3) This story seems to be believed by everyone.
 4) It seems that they believe he has written this story.

۴۷- در نحو کمینه‌گرا، کدام مشخصه صوری سبب می‌شود که کنشگر از شاخص گروه فعلی کوچک (Spec, vP) به شاخص گروه زمان (Spec, TP) حرکت کند؟

- (۱) مشخصه قوی حالت فاعلی [uNOM*]
 (۲) مشخصه قوی معرف [uD*]
 (۳) مشخصه ضعیف معرف [uD]
 (۴) مشخصه ضعیف حالت فاعلی [uNOM]

۴۸- کدام گزینه درباره ساختار نحوی گروه معرف (DP) زیر نادرست است؟

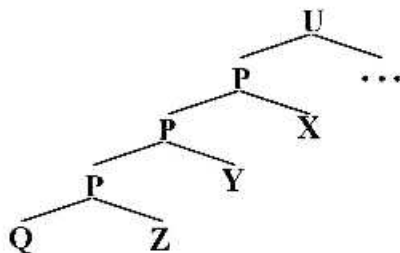
“Mary’s striking resemblance to Sue”

- (۱) سازه Mary برای بازبینی حالت اضافه به هسته D ارتقا می‌یابد.
 (۲) صفت Striking افزوده‌ای است که به لایه nP متصل می‌شود.
 (۳) هسته اسمی resemblance به هسته n ارتقا و انضمام می‌یابد.
 (۴) گروه to Sue متممی است که در ذیل لایه nP باقی می‌ماند.

۴۹- کدام جمله به دلیل نقض شرط رؤیت‌پذیری (Visibility Condition) نادرستی است؟

- (۱) * ویراستارها کسی را به مذاکره با نحوین فرستاد.
 (۲) * ویراستارها کسی به مذاکره با نحوین فرستادند.
 (۳) * ویراستارها هیچ کس را به مذاکره با نحوین فرستادند.
 (۴) * ویراستارها هیچ کس را به مذاکره با نحوین نفرستادند.

۵۰- کدام گزینه درباره رابطه سازه‌فرمانی (e-command) در نمودار زیر درست است؟



- (۱) گره P بر Z و Q سازه‌فرمانی یک‌سویه می‌کند.
 (۲) گره U بر Z و Q سازه‌فرمانی یک‌سویه می‌کند.
 (۳) گره‌های Z و Y بر هم سازه‌فرمانی دوسویه می‌کنند.
 (۴) گره‌های X و Y بر هم سازه‌فرمانی دوسویه می‌کنند.

۵۱- در جمله زیر، سازه‌فرمانی کدام سازه بر ضمیر دوسویه (Reciprocal) «همدیگر» عامل خوش‌ساختی اشتقاق نحوی شده است؟

«آموزگارمان همیشه به دانش‌آموزانش مشورت با همدیگر را توصیه می‌کند.»

- (۱) «آموزگار» در جایگاه فاعل ساختاری جمله
 (۲) «دانش‌آموزان» در جایگاه متمم حرف اضافه
 (۳) ضمیر مستتر (PRO) در درون سازه مفعول مستقیم
 (۴) ضمیرک مستتر (pro) در درون سازه مفعول مستقیم
 ۵۲- کدام جمله دستخوش فرایند کافت (Gapping) شده است؟

- (۱) دارا یک کتاب به من و یک خودنویس به سارا داد.
 (۲) دارا یک کتاب به من داده بود، سارا نداده بود.
 (۳) دارا یک کتاب به من داد، سارا یک خودنویس.
 (۴) دارا یک خودنویس به سارا داده بود، نداده بود؟

۵۳- در چارچوب برنامه کمینه‌گرا و مفهوم انطباق موضعی (Locality of Matching)، کدام گزینه درباره ساخت زیربنایی بند اصلی جمله زیر درست است؟

“When I come at 6:00, will you have been practicing long?”

- (۱) فعل واژگانی practicing در هسته فراقن ProgP وند استمراری گرفته است.
 (۲) فعل کمکی will در هسته گروه زمان با مشخصه [PrCS] ادغام شده است.
 (۳) هسته فراقن ProgP از گره بالاتر ارزش نمود استمراری پذیرفته است.
 (۴) هسته فراقن PerIP از گره بالاتر ارزش نمود کامل پذیرفته است.

- ۵۴- در نظریه حاکمیت و مرجع‌گزینی (GB) در ساخت کنترل اجباری کدام شرط باید برآورده شود؟
 (۱) کنترل‌کننده دارای نقش معنایی کنشگر (Agent) باشد.
 (۲) کنترل‌کننده در جمله ناخودایستا (Non-Finite) باشد.
 (۳) کنترل‌کننده دارای حالت فاعلی (Nominative Case) باشد.
 (۴) کنترل‌کننده ضمیر مستتر (PRO) را سازه‌فرمانی (C-Command) کند.
- ۵۵- کدام گزینه به ترتیب درباره «ردّ پرسشواژه»، «ضمیر مستتر PRO» و «ضمیرک فاعلی مستتر pro» صحیح است؟
 (۱) [-anaphor, -pronominal], [+anaphor, +pronominal], [-anaphor, +pronominal]
 (۲) [+anaphor, +pronominal], [+anaphor, -pronominal], [-anaphor, +pronominal]
 (۳) [+anaphor, -pronominal], [+anaphor, -pronominal], [-anaphor, -pronominal]
 (۴) [-anaphor, +pronominal], [+anaphor, +pronominal], [-anaphor, -pronominal]
- ۵۶- کدام جمله معنای ترکیبی (Synthetic) دارد؟
 (۱) همهٔ مجردها همسر دارند.
 (۲) همهٔ متأهل‌ها خوشحالند.
 (۳) همهٔ متأهل‌ها ازدواج کرده‌اند.
 (۴) هیچ‌یک از متأهل‌ها ازدواج نکرده‌اند.
- ۵۷- کدام گزینه جملهٔ جنس (Generic) است؟
 (۱) آن دخترها عروسک دوست دارند.
 (۲) آن دختر عروسک دوست دارد.
 (۳) دخترهایم عروسک دوست دارند.
 (۴) دختر عروسک دوست دارد.
- ۵۸- کدام ریشه‌های زیر در ساخت ماضی استمراری سوم شخص مفرد می‌توانند، به ترتیب، به هم‌نویسی و هم‌نامی منجر شوند؟
 (۱) گزار - رقص (۲) گزار - پذیر (۳) گزار - پوش (۴) گزار - طلب
- ۵۹- تیرگی ارجاعی در کدام نظریهٔ معنی‌شناسی شناختی مطرح می‌شود؟
 (۱) استعارهٔ مفهومی (۲) مجاز مفهومی
 (۳) فضاهای ذهنی (۴) معنی‌شناسی قالبی
- ۶۰- کدام گزینه جملهٔ زیر را به درستی تکمیل می‌کند؟
 «گسترهٔ یک عبارت ارجاعی»
 (۱) بر یک مفهوم مشخص دلالت می‌کند.
 (۲) بر مجموعه‌ای از مصادیق دلالت می‌کند.
 (۳) بر مجموعه‌ای از مفاهیم دلالت می‌کند.
 (۴) بر یک مصداق مشخص دلالت می‌کند.
- ۶۱- تفاوت در دامنهٔ باهم‌آیی واژه‌های هم‌معنی، کدام نوع هم‌معنایی را رقم می‌زند؟
 (۱) سبکی (۲) گفتمانی (۳) نسبی (۴) تقریبی
- ۶۲- چندمعنایی منظم (Systemic Polysemy) براساس کدام مفهوم تعریف می‌شود؟
 (۱) مجاز (۲) هم‌معنایی (۳) تقابل معنایی (۴) استعاره
- ۶۳- رابطهٔ معنایی بین کدام جفت‌واژه‌ها متفاوت است؟
 (۱) باهوش - کودن (۲) مجرد - متأهل (۳) زنده - مرده (۴) حضور - غیاب
- ۶۴- کدام گزینه نمونه‌ای از یک محمول متقارن (Symmetric Predicate) است؟
 (۱) درون (۲) وقف کردن (۳) همانند (۴) دوست داشتن

- ۶۵- کدام گزینه معرف نظر سوسور درباره زبان است؟
 (۱) زبان موهبتی زیست‌شناختی در مغز انسان است.
 (۲) زبان نظامی روانشناختی در ذهن گویشوران زبان است.
 (۳) زبان واقعیتی شناختی و منبعث از تجربه فیزیکی فرد است.
 (۴) زبان بخشی از آگاهی جمعی، در تملک اجتماع و معرف آن است.
- ۶۶- فرضیه گشتارگرا از سوی کدام گروه از زبان‌شناسان ارائه شد؟
 (۱) نقش‌گرایان
 (۲) توصیف‌گرایان آمریکایی
 (۳) معنی‌شناسان زایشی
 (۴) ساخت‌گرایان اروپایی
- ۶۷- بنیانگذار مطالعات واج‌شناختی کیست؟
 (۱) نیکولای ترویتسکوی (۲) لری هایمن (۳) نوام چامسکی (۴) موريس هله
- ۶۸- کدام یک از اصطلاحات زبان‌شناختی از ابداعات مکتب پراگ است؟
 (۱) دال - مدلول (۲) جهانی‌های تلویحی - نشاننداری
 (۳) فرانش بینافردی - فرانش اندیشگانی (۴) مشخصه‌های تعبیری - مشخصه‌های غیرتعبیری
- ۶۹- در چارچوب نظریه مقوله و میزان هلیدی کدام گزینه در زمره مقولات است؟
 (۱) دستور، واژگان، بافت (۲) مرتبه، نمود و میزان تحلیل
 (۳) واحد، ساخت، طبقه و نظام (۴) مرتبه، نمود، نظام و ساخت
- ۷۰- کدام نظریه معرف رویکرد جی. آر. فرث در حوزه واج‌شناسی است؟
 (۱) واج‌شناسی نوایی (۲) واج‌شناسی طبیعی
 (۳) واج‌شناسی زایشی (۴) واج‌شناسی واج مستقل
- ۷۱- براساس آرای یاکوبسن، نقش ارجاعی زبان حاصل سوگیری پیام به سمت کدام عامل است؟
 (۱) گیرنده (۲) موضوع (۳) نظام رمزگان (۴) مجرای ارتباطی
- ۷۲- در حوزه تحلیل گفتمان، معنای «طرح‌واره» (Schema) به کدام مورد نزدیک است؟
 (۱) سناریو (Script) (۲) نوبت‌گیری (Turn-Taking)
 (۳) انسجام ساختاری (Cohesion) (۴) انسجام منطقی - معنایی (Coherence)
- ۷۳- در جمله‌های خبری هرگاه آغازگر (Theme) با فاعل انطباق داشته باشد است، در غیر این صورت است.
 (۱) مبتدا - خبر (۲) خبر - مبتدا (۳) نشاندار - بی‌نشان (۴) بی‌نشان - نشاندار
- ۷۴- با توجه به متن زیر کدام گزینه درباره اصول همکاری گرایس صادق است؟
 سارا: میای شنبه با هم بریم سخنرانی دکتر فاطمی؟
 آیدا: یکشنبه امتحان دارم.
 سارا: آهان!
 آیدا: خیلی مطمئن نیستم ولی تا جایی که می‌دونم انجام نمیشه.
 (۱) رعایت اصل کمیت و نقض اصول کیفیت، ارتباط و شیوه
 (۲) رعایت اصل کیفیت، نقض اصول کمیت، ارتباط و شیوه
 (۳) رعایت اصول کیفیت و ارتباط، نقض اصول ارتباط و شیوه
 (۴) رعایت اصول کیفیت، کمیت و ارتباط و نقض اصل شیوه

- ۷۵- بر پایه طبقه‌بندی هلیدی و حسن (۱۹۷۶)، جمله زیر از کدام یک از ابزارهای انسجام متن بهره برده است؟
 «نمی‌دانم دیوارهای اتاقم چه تأثیر زهرآلودی با خودش داشت که انگار مرا مسموم می‌کرد»
 (۱) ابزار پیوندی: سببی (Causal)
 (۲) ابزار واژگانی: باهم‌آبی (Collocation)
 (۳) ابزار دستوری: ارجاع درون متنی به ماقبل (Anaphoric reference)
 (۴) ابزار ادات ربط: افزایشی (Additive Reference)
- ۷۶- کدام عبارت درباره اصطلاح «تحول از پایین» (Chang Form Below) ویلیام لباو (۱۹۷۲)، صحیح است؟
 (۱) تحولی ناخودآگاه است.
 (۲) با موضوع اعتبار زبانی در پیوند است.
 (۳) سامان و نظام‌مندی بر آن حاکم نیست.
 (۴) در جهت نزدیک شدن به هنجارهای زبان معیار است.
- ۷۷- کدام نظریه، شباهت زبان‌های پیچین موجود در دنیا را، با وجود فاصله زیاد آن‌ها از هم، توجیه می‌کند؟
 (۱) همگرایی (۲) الگوی موجی (۳) چند مبدئی (۴) هویت اجتماعی
- ۷۸- یکی از ویژگی‌های بارز گونه فارسی تهرانی تبدیل واژه /u/ به /u/ یا /u/ پیش از واژه‌های خیشومی /m, n/ است. اگر در تقلید از این هنجار زبانی، یک گویشور غیر تهرانی «لیوان» /livan/ را به صورت «لیوون» /livun/ تلفظ کند، با کدام پدیده روبه‌رو هستیم؟
 (۱) تغییر آوایی (Sound Change)
 (۲) تصحیح افراطی (Hypercorrection)
 (۳) تداخل آوایی (Phonetic Interference)
 (۴) تغییر پراکنده (Sporadic Change)
- ۷۹- کاربرد نامتقارن صورت‌های ضمیر دوم شخص مفرد به صورت «تو - شما»، معرف کدام گزینه است؟
 (۱) تأثیر تحولات ادبی و غیرزبانی بر زبان‌ها
 (۲) دگرگونی‌های تاریخی و در زمانی زبان‌ها
 (۳) دگرگونی‌های هم‌زمانی و نحوی زبان‌ها
 (۴) تأثیر مؤلفه‌های قدرت و همبستگی بر انتخاب‌های زبانی
- ۸۰- وجود ترکیب‌های «دهه مبارکه» و «عنت‌تعالیات» در زبان فارسی، نشان‌دهنده کدام نوع قرض‌گیری زبانی است؟
 (۱) واجی (۲) واژگانی (۳) دستوری (۴) غیرمستقیم
- ۸۱- پردازش بالا - پایین (Top-Down) به چه معناست؟
 (۱) پردازش زبان نخست در سطح عالی و سپس در سطح اولیه انجام می‌شود.
 (۲) در پردازش داده‌های حسی، از اطلاعات پیشین و بافتی استفاده می‌شود.
 (۳) در پردازش داده‌های حسی، از اطلاعات پیشین و بافتی استفاده نمی‌شود.
 (۴) بخشی از پردازش زبان در قسمت بالایی مغز و بخشی در قسمت پایینی مغز انجام می‌شود.
- ۸۲- بر پایه کدام مدل بازشناسی واژه، شنوندگان به نقطه بازشناسی واژه، یعنی نقطه‌ای که آن واژه از کلمات دیگر متمایز می‌شود، حساس هستند؟
 (۱) لوگوژن (logogen)
 (۲) پیوندگرا (Connectionism)
 (۳) گروه همگن (Homogenous Group)
 (۴) فعالیت تعاملی (Interactive Activity)
- ۸۳- کدام تکنیک در تعیین سوپرتری (lateralization) زبانی نیمکره‌های مغز مورد استفاده قرار می‌گیرد؟
 (۱) شنود دوجانبه (Dichotic Listening)
 (۲) حرکت چشم (Eye Tracking)
 (۳) تصمیم‌گیری واژگانی (Lexical Decision)
 (۴) آماده‌سازی (Priming)

۸۴- کدام عوامل، سرعت دسترسی به واژه‌ها و بازشناسی آن را افزایش می‌دهند؟

- ۱) بسامد پایین، سن فراگیری بالاتر، وجود واژه‌های مجاور بیشتر
- ۲) بسامد پایین، سن فراگیری پایین‌تر، وجود واژه‌های مجاور کمتر
- ۳) بسامد بالا، سن فراگیری بالاتر، وجود واژه‌های مجاور کمتر
- ۴) بسامد بالا، سن فراگیری پایین‌تر، وجود واژه‌های مجاور بیشتر

۸۵- در مدل گرت، خطای جابه‌جایی واژه مانند «مریم چاقو را با گوشت خرد کرد»، در کدام سطح صورت می‌گیرد؟

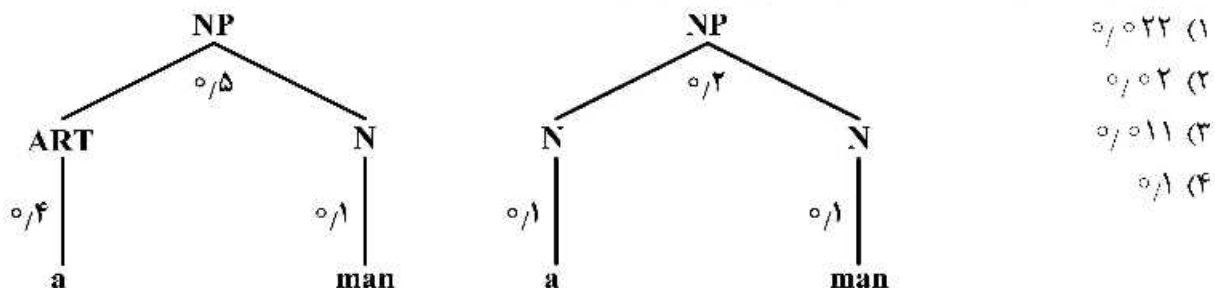
- ۱) مفهومی (Conceptual)
- ۲) موقعیتی (Positional)
- ۳) کارکردی (Functional)
- ۴) واجی (Phonological)

۸۶- در مسئله بازشناسی گفتار با رویکرد آماری، اگر S بیانگر سیگنال گفتار و W بیانگر دنباله کلمات باشد، کدام رابطه صحیح است؟

- ۱) $P(W|S) = P(S|W)P(S)$
- ۲) $P(W|S) = P(S|W)P(W)$
- ۳) $\arg \max_w P(W|S) = \arg \max_w P(S|W)P(S)$
- ۴) $\arg \max_w P(W|S) = \arg \max_w P(S|W)P(W)$

۸۷- عبارت اسمی "a man" توسط دو قاعده دستوری، با احتمالات داده‌شده، به صورت زیر تجزیه نحوی شده است.

احتمال تولید عبارت "a man" توسط مقوله NP چقدر است؟



۸۸- کدام یک از ماژول‌های زیر جزء نیازمندی‌های پردازشی در سامانه‌های تبدیل متن به گفتار فارسی است؟

- ۱) تشخیص مرجع ضمائر
- ۲) شناسایی ایست واژه‌ها (stop words)
- ۳) تشخیص خودکار برجسب اجزای کلام (POS tagging)
- ۴) رفع ابهام معنایی کلمات Homonym مانند «شیر»

۸۹- در یک پیکره متنی، کلمه بعد از کلمه a، یکی از کلمات b یا c است. اگر شمارش بایگرم دو کلمه ab برابر با ۲ و تعداد کلمه a در پیکره برابر با ۵ باشد، احتمال بایگرم P(c|a) چقدر است؟

- | | | | |
|-------------------|-------------------|-------------------|-------------------|
| $\frac{1}{2}$ (۴) | $\frac{2}{3}$ (۳) | $\frac{3}{5}$ (۲) | $\frac{2}{5}$ (۱) |
|-------------------|-------------------|-------------------|-------------------|

۹۰- کدام یک از معیارهای زیر، معمولاً برای ارزیابی سامانه‌های خلاصه‌ساز متنی به کار می‌رود؟

- | | | | |
|---------|----------------|---------|-----------|
| MOS (۴) | Perplexity (۳) | MSE (۲) | ROUGE (۱) |
|---------|----------------|---------|-----------|

